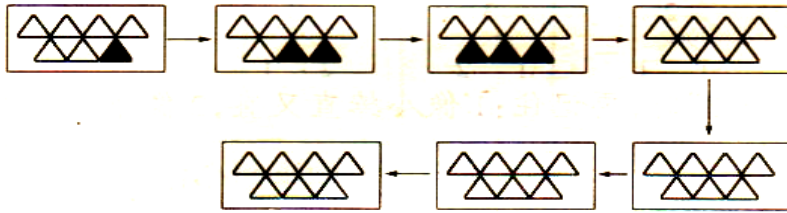


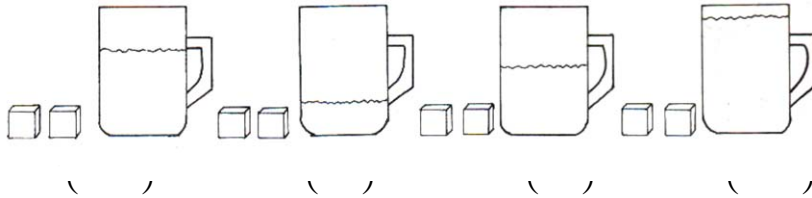
一年级思维训练测试题（二）

姓名 _____


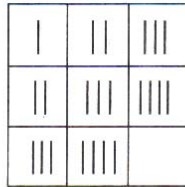
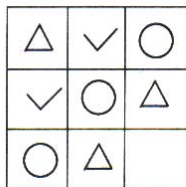
1、找规律画 ▲ 。



2、每个杯子放进两块糖后，哪杯最甜？请在（ ）里打“√”。



3、找规律，画一画。



4、按照事情的顺序，排列图的次序，把编号写在（ ）里。



()



()


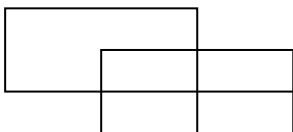


()



()


5、数一数。



() 个正方形

() 个长方形

- 6、单人椅只坐 1 个小朋友，双人椅能坐 2 个小朋友，当这些椅子坐满时，还有 () 个小朋友没有座位。

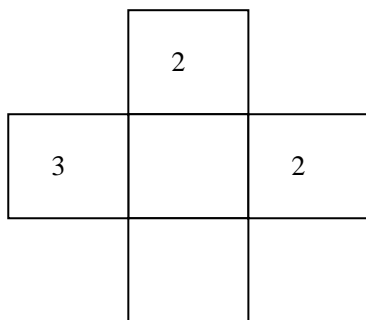


- 7、请你数一数，图中玩绳的小孩有 () 个。



- 8、有 8 个人，每人坐一把椅子，少了 3 把，有 () 把椅子。

- 9、使横排、竖排的 3 个数相加都等于 9。



- 10、华华走向公园的时候，迎面来了三个大人三个小孩，那么到公园去一共有 () 人。