

1. 书库里把书如图3-16所示的那样沿墙堆放起来. 请你数一数这些书共有多少本?




图3-16

2. 图3-17所示是一个跳棋盘, 请你数一数, 这个跳棋盘上共有多少个棋孔?

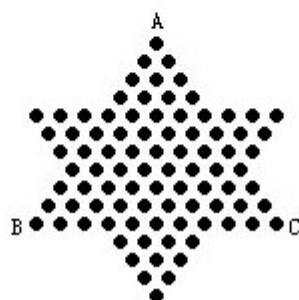


图3-17

3. 数一数, 图3-18中有多少条线段?



图3-18

4. 数一数, 图3-19中有多少锐角?

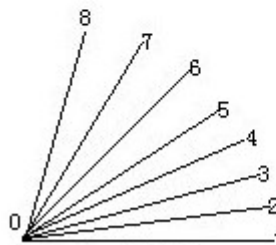


图3-19

5. 数一数，图3-20中有多少个三角形？

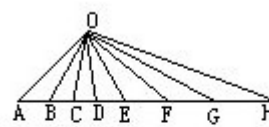


图3-20

6. 数一数，图3-21中有多少正方形？




图3-21