

习题七

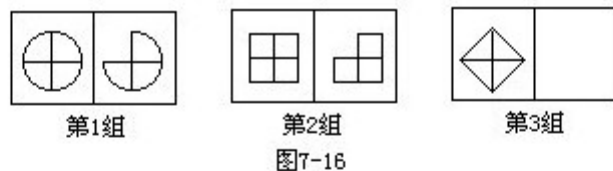
1. 仔细观察图7—14，找找变化规律，猜猜在第3组的空白格内填一个什么样的图？



2. 仔细观察图7—15，找找变化规律，猜猜在第3组的空白格内填一个什么样的图？



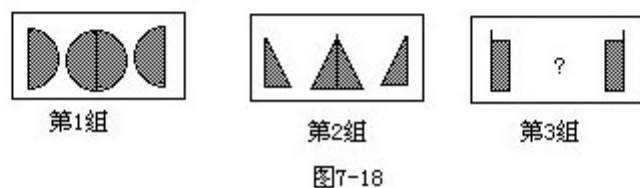
3. 仔细观察图7—16，找找变化规律，猜猜在第3组的空白格内填一个什么样的图？



4. 按顺序仔细观察下列图形，猜一猜第3组的“？”处应填什么图？



5. 按顺序仔细观察下列图形，猜一猜第3组的“？”处应填什么图？



6. 按顺序仔细观察下列图形，猜一猜第3组的“？”应填什么图？



图7-19

7. 按顺序仔细观察下列图形，猜一猜第3组的“？”应填什么图？



图7-20

8. 仔细观察下列图形的变化，请先回答：

①在方框（4）中应画出怎样的图形？

②再按（1）、（2）、（3）、……的顺序数下去，第（10）个方框是怎样的图形？

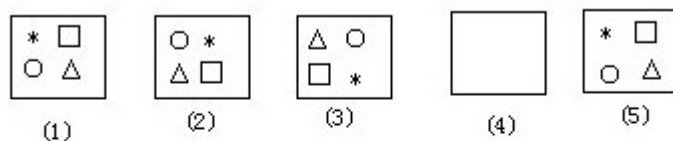


图7-21

9. 仔细观察下列图形的变化，请先回答：

①在方框（4）中应画出怎样的图形？

②再按（1）、（2）、（3）、……的顺序数下去，第（10）个方框是怎样的图形？

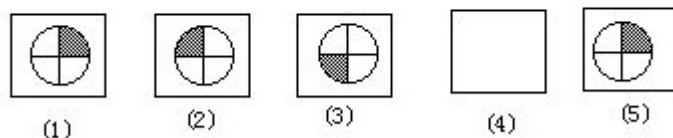


图7-22