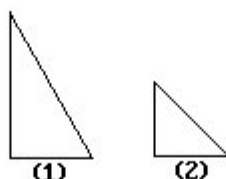


区分图形

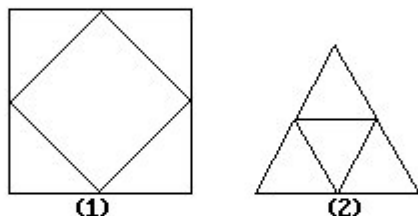
例1 下图中的两个三角形，有哪些相同点，有哪些不同点？



相同点：都有一个直角，都是直角三角形。

不同点：（1）中两条直角边不相等，是一般的直角三角形。（2）中两条直角边相等，是个等腰直角三角形。

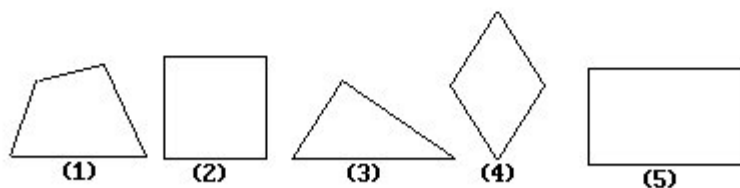
例2 下图中的两个图形，有哪些相同点，有哪些不同点？请你仔细观察、分析。



相同点：都可以看成是一个大图形里面内接（套着）一个同样形状的小图形组成。

不同点：（1）的大小两个图形都是正方形，（2）的大小两个图形都是等边三角形。

例3 下图的五个图形中，哪一个与众不同？



图（3）与其他四个不同。

因为图（3）只有三条边，是三角形，而其他四个图形都是四边形。

例4 从下面的五个图形中选出与众不同的一个。