

七、解决问题。

1、教室里走了16个学生，还剩25个学生，教室里原来有多少个学生？

_____ 答：教室里原来有（ ）个学生。

2、小胖带了50元和妈妈一起去买玩具，一辆玩具小车为18元，小胖买了玩具小车后，还剩多少钱？

_____ 答：还剩（ ）元。

3、王阿姨装苹果，18个苹果装一袋，再添2个苹果就能装满这样的两袋了。王阿姨已经装了几个苹果？

_____ 答：王阿姨装了（ ）个苹果。

4、36个小朋友排成一排去活动。小明的前面有12个小朋友，他的后面有几个小朋友？

_____ 答：他的后面有（ ）个小朋友。

5、先选出一个合适的条件，把编号填在横线上，在列式计算。

体育室又买来一些球，其中小足球有23只，_____, 篮球有几只？

A、皮球比小足球多8至

B、篮球比皮球少3只

C、皮球和篮球共有40只

D、小足球和篮球共有40只

_____ 答：篮球有（ ）只。

第二部分：应用部分

一、填空。

1、1元-2分=（ ）分


64cm + 36cm=（ ）m

2、在括号中填上合适的单位：

小巧身高130（ ）

我的英语书厚5（ ）

3、看图填空：



这根绳子长（ ）毫米，把它减去30毫米，还剩（ ）毫米。

- 4、两个加数的和是36，如果将这两个加数各加2，那么，他们的和应是（ ）。
- 5、 $\square + 36 < 57$, \square 里最大应填（ ）。
- 6、3个5角硬币和5个1角硬币，可以换（ ）张1元纸币。
- 7、38十位上的3表示（ ）个（ ），个位上的8表示（ ）个（ ），它们之间相差（ ）。
- 8、王奶奶养了25只公鸡，18只母鸡，每只母鸡又养了1只小鸡。王奶奶现在一共有（ ）只鸡。
- 9、百数表中，57在第（ ）行，第（ ）列。
- 10、看图，根据要求在（ ）里打“√”。



(1) 小巧带了60元，她买了2件商品正好全部花完，她买的是什么商品？



() () () ()

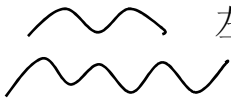
(2) 小丫带了100元，她想买3件不同的商品，可钱不够，她想买的是什么商品？



() () () ()

二、判断题（对的在括号里打√，错的在括号里打×）。

- 1、5个6和6个5的大小相等，意义也相同。 ()
- 2、比38多2个十的数是58。 ()

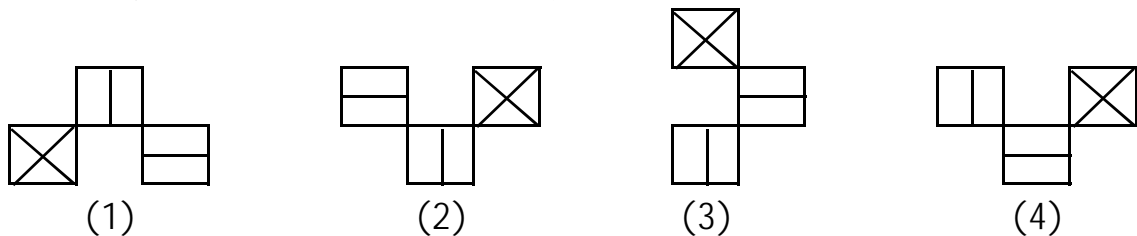
- 3、  左图中的两条线段，下面一条比上面一条长。．．．（ ）

三、选择（填入正确答案前的标号）。

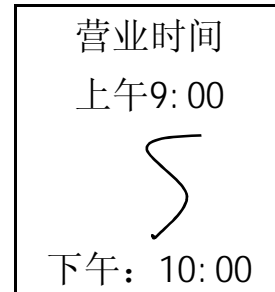
- 1、 比80小，且各位是5的两位数，一共有（ ）个。
A、 6 B、 7 C、 8 D、 9
- 2、 看同一本书，小巧看了72页，小丁丁看了75页，剩下的页数，（ ）。
A、 小巧比小丁丁少3页 B、 小巧比小丁丁多看3页
C、 剩下的页数相同 D、 无法比较

拓展部分

- 1、 下面四幅图中，（ ）号图与众不同。



- 2、 一家商店的门口挂了一块牌子（如右图），
这家商店每天营业（ ）小时。



- 3、 将一根长100厘米的绳子对折剪开，其中有2根绳子长（ ）厘米，
另1根绳子长（ ）厘米。

- 4、 下面的汉子分别表示数字几？

$$\begin{array}{r}
 \text{上 学} \\
 + \text{学 上} \\
 \hline
 \text{学 学 好}
 \end{array}
 \quad
 \begin{array}{l}
 \text{上} = (\quad) \\
 \text{学} = (\quad) \\
 \text{好} = (\quad)
 \end{array}$$

- 5、 甲、乙、丙三人分苹果，先把一半分给甲，再把剩下苹果的一半给了乙，
其余的给了丙，丙分了6只苹果。这些苹果原来共有（ ）只。