

## 第一部分：基础部分

### 一、列竖式计算。

$15+35-27=$

$37+28+19=$

$100-31-68=$

### 二、括号里应填几。

$(\quad) - 15 - 35 = 10$


$23 + (\quad) + 8 = 50$

$31 - (\quad) + 7 = 17$

$(\quad) - 12 + 18 = 30$

### 三、画一画、写一写。

(1) 画钟面



19时半

(2)

十	个
.	.
.	.
.	.
.	.
.	.
.	.
.	.
.	.
.	.

算式：

\_\_\_\_\_

(3) 画一条3厘米的线段。

### 四、在○填上“>、<或=”。

$36 \bigcirc 63$

$60-15-15 \bigcirc 60-(15+15)$

$54-20+20 \bigcirc 54-40$

$7\text{cm} \bigcirc 7\text{mm}$

$6\text{元}8\text{角} \bigcirc 8\text{元}6\text{角}$

$1\text{m}5\text{cm} \bigcirc 15\text{cm}$

### 五、在方框中填入适当的数

$$\begin{array}{r} \square 2 \\ - 4 \square \\ \hline 27 \end{array}$$

$$\begin{array}{r} 39 \\ + \square 1 \\ \hline 8 \square \end{array}$$

$$\begin{array}{r} \square 6 \\ - 2 \square \\ \hline 52 \end{array}$$

### 六、请按百数表的规律，在下面的空格中填上合适的数。

	35		

## 七、解决问题。

1、教室里走了16个学生，还剩25个学生，教室里原来有多少个学生？

\_\_\_\_\_ 答：教室里原来有（     ）个学生。

2、小胖带了50元和妈妈一起去买玩具，一辆玩具小车为18元，小胖买了玩具小车后，还剩多少钱？

\_\_\_\_\_ 答：还剩（     ）元。

3、王阿姨装苹果，18个苹果装一袋，再添2个苹果就能装满这样的两袋了。王阿姨已经装了几个苹果？

\_\_\_\_\_ 答：王阿姨装了（     ）个苹果。

4、36个小朋友排成一排去活动。小明的前面有12个小朋友，他的后面有几个小朋友？

\_\_\_\_\_ 答：他的后面有（     ）个小朋友。

5、先选出一个合适的条件，把编号填在横线上，在列式计算。

体育室又买来一些球，其中小足球有23只，\_\_\_\_\_, 篮球有几只？

A、皮球比小足球多8至

B、篮球比皮球少3只

C、皮球和篮球共有40只

D、小足球和篮球共有40只

\_\_\_\_\_ 答：篮球有（     ）只。

## 第二部分：应用部分

### 一、填空。

1、1元-2分=（     ）分


64cm + 36cm=（     ）m

2、在括号中填上合适的单位：

小巧身高130（     ）

我的英语书厚5（     ）

3、看图填空：



这根绳子长（     ）毫米，把它减去30毫米，还剩（     ）毫米。

4、两个加数的和是36，如果将这两个加数各加2，那么，他们的和应是（ ）。

5、 $\square + 36 < 57$ ,  $\square$ 里最大应填（ ）。

6、3个5角硬币和5个1角硬币，可以换（ ）张1元纸币。

7、38十位上的3表示（ ）个（ ），个位上的8表示（ ）个（ ），它们之间相差（ ）。

8、王奶奶养了25只公鸡，18只母鸡，每只母鸡又养了1只小鸡。王奶奶现在一共有（ ）只鸡。

9、百数表中，57在第（ ）行，第（ ）列。

10、看图，根据要求在（ ）里打“√”。



(1) 小巧带了60元，她买了2件商品正好全部花完，她买的是什么商品？



( ) ( ) ( ) ( )

(2) 小丫带了100元，她想买3件不同的商品，可钱不够，她想买的是什么商品？

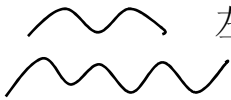


( ) ( ) ( ) ( )

二、判断题（对的在括号里打√，错的在括号里打×）。

1、5个6和6个5的大小相等，意义也相同。．．．．．（ ）

2、比38多2个十的数是58。．．．．．（ ）

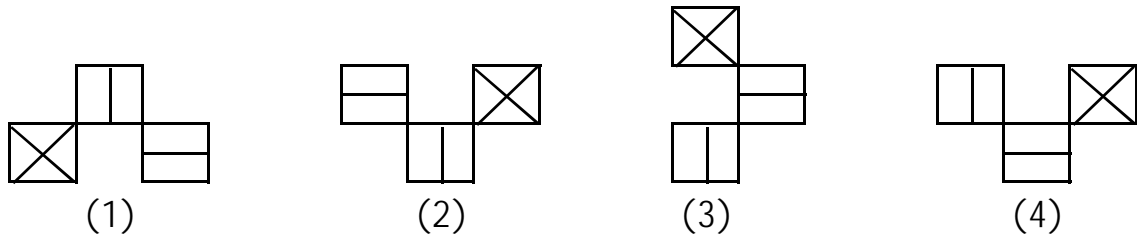
- 3、 左图中的两条线段，下面一条比上面一条长。．．．（ ）

三、选择（填入正确答案前的标号）。

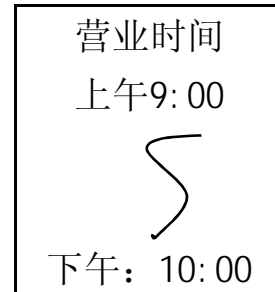
- 1、比80小，且各位是5的两位数，一共有（ ）个。  
A、6      B、7      C、8      D、9
- 2、看同一本书，小巧看了72页，小丁丁看了75页，剩下的页数，（ ）。  
A、小巧比小丁丁少3页      B、小巧比小丁丁多看3页  
C、剩下的页数相同      D、无法比较

### 拓展部分

- 1、下面四幅图中，（ ）号图与众不同。



- 2、一家商店的门口挂了一块牌子（如右图），  
这家商店每天营业（ ）小时。



- 3、将一根长100厘米的绳子对折剪开，其中有2根绳子长（ ）厘米，  
另1根绳子长（ ）厘米。

- 4、下面的汉子分别表示数字几？

上 学	上= (    )
+ 学 上	学= (    )
学 学 好	好= (    )

- 5、甲、乙、丙三人分苹果，先把一半分给甲，再把剩下苹果的一半给了乙，  
其余的给了丙，丙分了6只苹果。这些苹果原来共有（ ）只。