

苏教版二年级上册数学期末测试卷

班级_____ 姓名_____ 学号_____

一、 填一填

$\square \div \square = 8$	$\square \times 5 = \square$	$\square \div 5 = \square$	$\square \times \square = 24$
$\square \div \square = 8$	$\square \times 4 = \square$	$\square \div 6 = \square$	$\square \times \square = 32$
$\square \div \square = 8$	$\square \times 7 = \square$	$\square \div 5 = \square$	$\square \times \square = 35$
$\square \div \square = 8$	$\square \times 8 = \square$	$\square \div 7 = \square$	$\square \times \square = 63$

二、 填空

6个8相加是(), 比8个8少(), 比5个8多();
3个7相加是(), 比2个7多(), 比4个7少()。

三、填上合适的单位。

同学们每天在学校时间大约是6 () 铅笔长大约是6 ()
小玲从家到学校大约要走10 () 小床长大约是2 ()
跳30下绳大约需要25 () 大树高约15 ()
课桌高约70 () 脚大约长20 ()

四、写出下列钟表的时间



五、看图填空



1、每()个一堆, 有()堆萝卜, 一共有()个萝卜。

列式_____

2、16个萝卜, 平均分成()堆, 每堆()个。

列式_____

3、16个萝卜, 每()个一堆, 平均分成了()堆。

列式_____

六

六、

每两点之间连一条线段。数一数, 共有()条
线段, 最长的一条大约()厘米, 最短的一

条大约（ ）厘米，两条线段相差（ ）厘米。

七、计算的结果可能是几十多？圈出来。

1、八十几减三十几

五十几

四十几

40

50

2、二十几加三十几


五十几

50


六十几

60


八、把下面的长方形用一条线段按要求分一分




分成两个三角形



分成两个四边形

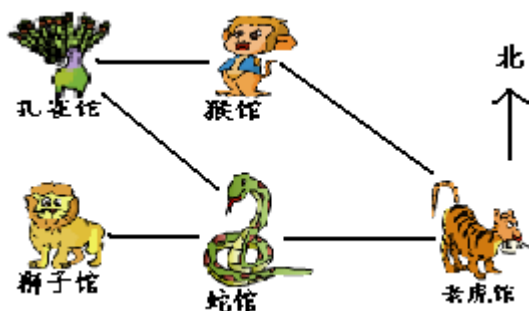


分成一个三角形和一个四边形



分成一个三角形和一个五边形

九、



1、孔雀馆的南面是（ ）馆。

猴子馆在孔雀馆的（ ）面，在蛇馆的（ ）面；

狮子馆在蛇馆的（ ）。

2、用“可能”“一定”“不可能”填一填

从老虎馆到孔雀馆（ ）经过蛇馆，从老虎馆到狮子馆（ ）经过蛇馆。

十、完成统计图



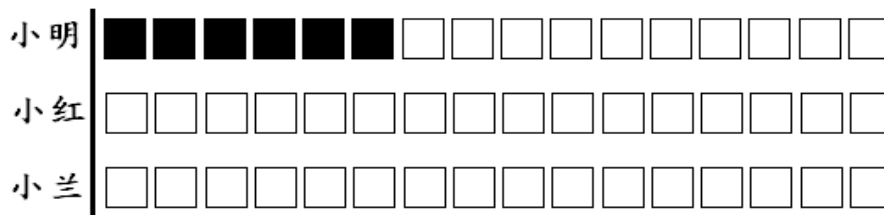
我家的书比小明家的多5本

小兰



我的课外书是小明的2倍

小红



十一、解决问题

1、



(1)、玩具飞机比洋娃娃贵 19 元，玩具飞机多少元？

列式_____

(2)、小汽车比洋娃娃便宜多少钱？

列式_____

(3)、汽车的价钱是玩具蛇的几倍？

列式_____

(4)、买一辆汽车和一架飞机一共要花多少钱？

列式_____

(5)、你还能提出什么数学问题?并解决问题。

2、梨树有 48 棵 桃树比梨树少 22 棵
 苹果树比梨树多 15 棵 枣树有 36 棵

问题 1	_____	列式_____
2	_____	列式_____
3	_____	列式_____
4	_____	列式_____

3、买一架玩具飞机的钱可以买 8 本本子，

(1) 军军带的钱正好可以买 3 架玩具飞机，如果买本子，可以买几本？

列式_____

(2) 如果每本本子 6 角钱，那么一架玩具飞机多少钱？

列式_____

4、大雁 25 只 鸭比大雁多 19 只 鹅比大雁少 9 只
 鸭和鹅各有多少只？

列式_____