

考 生	1. 请考生务必认真填写试卷上考生信息，以便正常通知；
须 知	2. 请将答案写在答题纸上，在试卷上作答无效；考试结束后需上交答题纸。

爱贝亲子网

www.i-bei.com

# 一、填空题（每题 5 分，共 10 题，共 50 分）

1、计 算：45+(14+9)-34-23+(18+16) = \_\_\_\_\_。

2、如图，这是一个\_\_\_\_\_三角形。

A、锐 角

B、钝 角

C、直 角



3、圆 柱 体有\_\_\_\_\_个面  
三 棱 柱\_\_\_\_\_个面

圆 锥 体有\_\_\_\_\_个面  
长 方 体\_\_\_\_\_个面

4、现在 是 14: 00，再 过 两 个 小 时 \_\_\_\_\_ 点？（用 24 小 时 表 示 法）

5、两 个 数 的 和 比 其 中 一 个 数 大 23，比 另 一 个 数 大 19，这 个 两 个 数 分 别 是 \_\_\_\_\_？

6、时 钟 敲 3 下 要 2 秒 钟，敲 6 下 要 \_\_\_\_\_ 秒

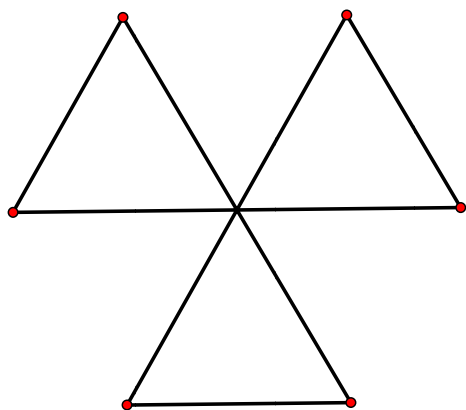
7、佳 佳 和 静 静 一 样 高，静 静 和 真 真 一 样 高。佳 佳 和 真 真 谁 高 \_\_\_\_\_

A、佳 佳

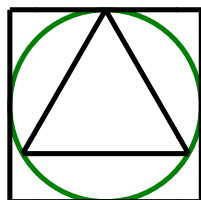

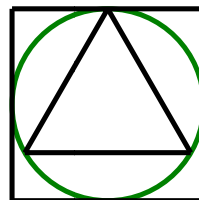

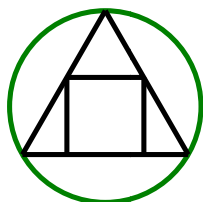

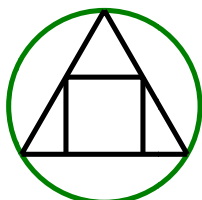
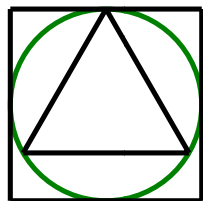
B、真 真

C、一 样 高

8、用9根火柴摆成三个三角形，使它变成四个小三角形和一个大三角形，请你画一画。



9、按规律把最后一个图形画出来。



\_\_\_\_\_

10、爸爸买了一些巧克力，分给哥哥和弟弟吃，哥哥吃了4颗，弟弟吃了6颗，正好都吃了各自的一半。爸爸买回来\_\_\_\_颗巧克力。

二、解答题（每题 10 分，共 5 题，共 50 分）

爱贝亲子网

www.i-bei.com

11、zhīxiǎohóuzifēn gètáozi yāoqiúměizhīhóuzidōuyào fēndào táozi bìngqiè fēndào de gèshù bù yí yàng duō  
5只小猴子分30个桃子。要求每只猴子都要分到桃子，并且分到的个数不一样多，  
tóngshí yào bǎo zhèng fēn dào de dōu shì shuāng shù gè qǐng wèn ná zuì duō táo zi de nà zhī hóu zi ná dào le  
同时要保证分到的都是双数个。请问拿最多桃子的那只猴子拿到了\_\_\_\_\_个  
táo zi  
桃子？

12、bǎ yí gè zhèng fāng xíng fēn chéng sì gè xíng zhuàng xiāng tóng 把一个正方形分成四个形状相同，  
dà xiǎo yí yàng de bù fēn 大小一样的部分。（不能是  
cháng fāng xíng zhèng fāng xíng huò sān jiǎo xíng  
长方形、正方形或三角形）

13、zhī māo 5 fēn zhōng chī wán 1 tiáo yú zhào zhè yàng suàn 5 zhī māo 5 fēn zhōng néng tóng shí chī wán  
1只猫5分钟吃完1条鱼，照这样算5只猫5分钟能同时吃完\_\_\_\_条一样  
dà xiǎo de yú  
大小的鱼。

14、gè xiǎo péng yǒu zhàn chéng fēn kāi de liǎng pái měi pái rén shù yí yàng liàng liàng zài dì yí pái tā de zuǒ miàn  
16个小朋友站成分开的两排，每排人数一样。亮亮在第一排，他的左面  
yǒu 5 gè rén cóng yòu biān shù tā pái dì  
有5个人，从右边数他排第\_\_\_\_\_个？

15、xiǎo hóu kuān kuān pá yí kē 10 mǐ gāo de dà shù měi pá 10 fēn zhōng lèi le xiūxi 2 fēn zhōng zài jì xù pá  
小猴宽宽爬一棵10米高的大树，每爬10分钟累了休息2分钟再继续爬。在  
zhè 10 fēn zhōng li tā néng xiàng shàng pá 2 mǐ nà me kuān kuān yào  
这10分钟里它能向上爬2米，那么宽宽要\_\_\_\_\_分钟能爬到树顶。