

一年级数学下册同步练习题 1

班级_____ 姓名_____

一、看看谁能算得又对又快。

$$\begin{array}{ccccc} 16+30= & 15-8= & 45+40= & 50+6+3= & 8+8+50= \\ 23+6= & 65+30= & 23+5= & 5+61+2= & 40+20+32= \\ 37+50= & 80-40= & 5+32= & 20+60+13= & 63-3+26= \end{array}$$

二、估计得数是几十多。

$$\begin{array}{ccc} 53+20 (\text{____ 十多}) & 8+81 (\text{____ 十多}) & 34+30 (\text{____ 十多}) \\ 45+2 (\text{____ 十多}) & 40+34 (\text{____ 十多}) & 3+73 (\text{____ 十多}) \end{array}$$

三、不计算，在○里填上“<”“>”或“=”。

$$\begin{array}{ccc} 4+24 \bigcirc 40+24 & 30+45 \bigcirc 30+25 & 34+2 \bigcirc 2+34 \\ 67-7 \bigcirc 67-60 & 56+1 \bigcirc 56+2 & 43+4 \bigcirc 45+4 \end{array}$$

四、在（ ）里把正确的得数圈出来。

$$\begin{array}{ccc} 35+40 (39 \quad 75) & 8+40 (48 \quad 84) & 74+5 (79 \quad 89) \\ 24+20 (44 \quad 46) & 52+3 (82 \quad 55) & 72+1 (82 \quad 73) \end{array}$$

四、在方框里填数。

16
45
82
61
72

$$\begin{array}{|c|} \hline \\ \hline \\ \hline \\ \hline \\ \hline \end{array} = \begin{array}{|c|} \hline \\ \hline \\ \hline \\ \hline \\ \hline \end{array}$$

$$30 + \begin{array}{|c|} \hline \\ \hline \\ \hline \\ \hline \\ \hline \end{array} = \begin{array}{|c|} \hline \\ \hline \\ \hline \\ \hline \\ \hline \end{array}$$

五、走进生活。

1、



24件



40件

一共有多少件？

$$\square \bigcirc \square = \square$$

2、



有46棵，



有40棵。

柳树再种几棵就和松树同样多？

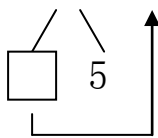
$$\square \bigcirc \square = \square$$

一年级数学下学期同步练习题 2

班级_____ 姓名_____

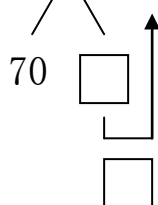
一、填一填。

1、 $65 - 20 = \square$



先算 () 减 () 得 (),
再算 () 加 () 得 ().

2、 $78 - 6 = \square$



先算 () 减 () 得 (),
再算 () 加 () 得 ().

3、

被减数	49	39	75	80	67	93	55	99	77	63	87
减数	5	6	50	40	7	60	3	20	4	60	4
差											

二、在○里填上“<”“>”或“=”。

$8 - 3 \bigcirc 80 - 30$

$69 - 5 \bigcirc 69 - 50$

$48 - 20 \bigcirc 38 - 10$

$78 - 20 \bigcirc 68 - 20$

$35 - 2 \bigcirc 35 - 5$

$64 - 30 \bigcirc 23 + 10$

三、解决问题。

1、学校图书室有 76 本故事书。



被我们班借走30本，
还剩多少本？



$\square \bigcirc \square = \square$ ()

2、



已经上来了5人。

还有几个空座位？ $\square \bigcirc \square = \square$ ()

一年级数学下学期同步练习题 3

班级_____ 姓名_____

一、比比谁算得又对又快。

$88-80=$	$12-9=$	$94-60=$	$30+26=$	$47-6+20=$
$10+40=$	$49-9=$	$46-20=$	$70+22=$	$86-6+14=$
$20+35=$	$46-5=$	$84-40=$	$56-3=$	$58-6-30=$

二、在横线上填上合适的数。

76	85	63	34	47
3	4	20	2	10

差: 45
和: 30

三、在○里填上“>”“<”或“=”。

$52+20 \bigcirc 52+2$	$79-50 \bigcirc 79-5$	$46-20 \bigcirc 29-3$
$87-40 \bigcirc 92-40$	$32+60 \bigcirc 45+40$	$92-70 \bigcirc 72-50$
$29+20 \bigcirc 74-30$	$42+50 \bigcirc 82+10$	$95-20 \bigcirc 86-16$

四、解决问题。

1、一（6）班有 45 名同学。



男生有多少人？

$\square \bigcirc \square = \square$ ()

3、



2、一共有 29 只小狗。



屋里还有几只小狗？

$\square \bigcirc \square = \square$ ()

$\square \bigcirc \square = \square$ ()

一年级数学下学期同步练习题 4

班级_____ 姓名_____

五、比比谁算得又对又快。

$88-80=$	$12-9=$	$94-60=$	$30+26=$	$47-6+20=$
$10+40=$	$49-9=$	$46-20=$	$70+22=$	$86-6+14=$
$20+35=$	$46-5=$	$84-40=$	$56-3=$	$58-6-30=$

六、在横线上填上合适的数。

76	85	63	34	47
3	4	20	2	10

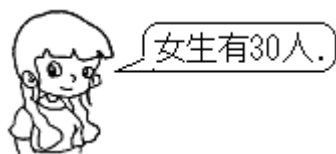
差: 45
和: 30

七、在○里填上“>”“<”或“=”。

$52+20 \bigcirc 52+2$	$79-50 \bigcirc 79-5$	$46-20 \bigcirc 29-3$
$87-40 \bigcirc 92-40$	$32+60 \bigcirc 45+40$	$92-70 \bigcirc 72-50$
$29+20 \bigcirc 74-30$	$42+50 \bigcirc 82+10$	$95-20 \bigcirc 86-16$

八、解决问题。

1、一（6）班有 45 名同学。



男生有多少人？

$\square \bigcirc \square = \square$ ()

3、



2、一共有 29 只小狗。



屋里还有几只小狗？

$\square \bigcirc \square = \square$ ()

$\square \bigcirc \square = \square$ ()

一年级数学下册同步作业 5

班级_____ 姓名_____

一、填一填。

1、() 比 81 大 1, 59 比 () 小 1。40 比 () 大 1, 比 () 小 1。

2、写出 5 个个位上是 3 的数: ()、()、()、()、()。其中最大的是 ()，最小的是 ()，把它们按从小到大的顺序排列:

() < () < () < () < ()。

3、十位上是 6 的双数有 ()。

4、在 0 到 50 中，个位和十位上数字相同的数有 ()。

5、一个数，它的个位上是 6，十位上的数字比个位上的数字大 2，这个数是 ()。

6、找规律，接着画图形。

(1) □○△□○△ _____、_____、_____、_____、_____、_____。

(2) ○☆○☆☆○☆☆ _____、_____、_____、_____、_____、_____。

(3) □□△▲□□△▲ _____、_____、_____、_____、_____、_____。

7、

				
原 有	35 件	56 只	() 斤	48 副
卖 出	20 件	() 只	14 斤	21 副
还 剩	() 件	3 只	5 斤	() 副

二、算一算。

$24 + 30 - 2 =$

$30 + 62 - 70 =$

$45 - 22 - 3 =$

$83 - 70 - 5 =$

$34 + 52 + 10 =$

$56 - 14 + 6 =$

$77 - 70 + 21 =$

$90 - 50 + 24 =$

$30 + 4 + 15 =$

$76 - 6 - 40 =$

$36 + 2 - 20 =$

$16 - 8 + 31 =$

三、小月有 42 本书。

小红的书比小月少一些。小红可能有多少本书？在正确答案下打“√”。

小方的书比小月多得多。小方可能有多少本书？在正确答案下画“○”。

11 本	40 本	50 本	82 本	43 本

一年级数学下册同步作业 6

班级_____姓名_____

一、直接写出得数。

$56-23=$	$72+15=$	$12-8=$	$78-50=$	$52+43+5=$
$25+6=$	$45-20=$	$55+5=$	$63+5=$	$79-49+18=$
$34-7=$	$14-8=$	$31+54=$	$50-9=$	$68+9-35=$
$6+35=$	$13-8=$	$54+25=$	$11-3=$	$38-34+55=$

二、在○里填上“>”“<”或“=”。

$42+25$ ○ $34+35$	$32+8$ ○ $56-20$	$72-60$ ○ $72-40$
$76+8$ ○ $70-9$	$6+84$ ○ $84+9$	$56+18$ ○ $82-9$
$45-6$ ○ $48+3$	$72-8$ ○ $82-8$	$56+12$ ○ $88-8$

三、列竖式计算下面各题。

$67+15=$	$8+25=$	$46-23=$	$24+26=$
----------	---------	----------	----------

$43+16=$	$22+38=$	$36+2=$	$12+79=$
----------	----------	---------	----------

四、下面各题的得数分别是几十多。

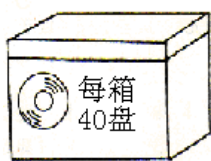
$45+23$ _____ 十多	$8+25$ _____ 十多	$67-8$ _____ 十多
$43+12$ _____ 十多	$65-4$ _____ 十多	$45+20$ _____ 十多
$38-7$ _____ 十多	$89-42$ _____ 十多	$4+39$ _____ 十多

五、

$34 \xrightarrow{+9}$	$\square \xrightarrow{+37}$	$\square \xrightarrow{-5}$	$\square \xrightarrow{+18}$	$\square \xrightarrow{-82}$	$\square \xrightarrow{-7}$	\square
$13 \xrightarrow{+25}$	$\square \xrightarrow{+9}$	$\square \xrightarrow{-20}$	$\square \xrightarrow{+18}$	$\square \xrightarrow{-8}$	$\square \xrightarrow{+13}$	\square

六、解决问题。

1、



把这些光盘放到箱子里，够放吗？



$\square \bigcirc \square = \square$ ()

在合适的答案后面画“√”。

够 ☐ 不够 ☐



23盘



18盘

一年级数学下册同步作业 7

班级 _____ 姓名 _____

一、计算。

$45-3=$

$55-9=$

$64-9=$

$32-7=$

$62-8=$

$70-7=$

$83-8=$

$44-9=$

$45-7=$

$36-7=$

$27-8=$

$58-9=$

二、填表。

被减数	53	60	92	61	73	41	46
减数	28	27	36	8	40	8	35
差							

三、下面哪几题的得数小于 50? 在算式后面的□里画“√”。

$78-23$ □

$89-39$ □

$61-13$ □

$3+27$ □

$14+46$ □

$50-6$ □

$12+14$ □

$94-56$ □

四、解决问题。

1、树上原来有 32 个桃。

我采了 15 个。树上
还剩多少个桃?



2、下面是洋洋、小春和小星在运动会上得到的分数。

洋洋	小春	小星
18 分	36 分	40 分

(1) 洋洋比小春少得多少分? _____

(2) 小星比洋洋多得多少分? _____

(3) 小春比小星少得多少分? _____

(4) 你还能提出什么问题?

一年级数学下册同步作业 8

班级_____姓名_____

一、直接写出得数。

$14-7=$ $13-8=$ $15-9=$ $11-7=$ $12-8=$

$17-8=$ $16-9=$ $11-8=$ $14-7=$ $12-7=$



$4+9-7=$ $11-8+6=$ $15-7-5=$ $12-9+7=$

二、开火车算一算。

$13 \xrightarrow{-8} \square \xrightarrow{+6} \square \xrightarrow{-2} \square \xrightarrow{+6} \square \xrightarrow{-7} \square \xrightarrow{+3} \square \xrightarrow{-5} \square$



$5 \xrightarrow{+8} \square \xrightarrow{-7} \square \xrightarrow{+5} \square \xrightarrow{-4} \square \xrightarrow{+9} \square \xrightarrow{-8} \square \xrightarrow{-7} \square$

三、

		合计
5个	7个	()个

有()个菠萝,
有()个西瓜。
一共有多少个水果?

$\square \bigcirc \square = \square$

		合计
5个	()个	12个

一共有()个水果,
其中菠萝有()个。
西瓜有多少个?

$\square \bigcirc \square = \square$

四、解决问题。

1 操场上跳绳的有15人,踢足球的有7人,打篮球的有9人。

(1) 踢毽子的和踢足球的一共有多少人? $\square \bigcirc \square = \square$

(2) 跳绳的女生有6人,男生有多少人? $\square \bigcirc \square = \square$

2、  苹果和梨一共有13个。

(1) 苹果有5个,梨有几个?

$\square \bigcirc \square = \square$

3、 (2) 梨有8个,苹果有几个?

$\square \bigcirc \square = \square$

3、 地上原来有12个蘑菇。



地上还剩多少个蘑菇?

$\square \bigcirc \square = \square$

桃树最多有()棵
最少有()棵。



果园里桃树和梨树一共有16棵。



一年级数学下册同步作业 9

班级_____姓名_____

一、填一填。

- 79 比 () 多 1, 比 () 少 1; 28 比 30 少 (), 67 比 65 多 ()。
- 95 里面有 () 个和 () 个十。10 个十是 ()。
- 5 个十加 2 个十是 () 个十, 就是 ()。
- 有一个两位数, 个位上最大的一位数, 十位上的数比个位上的数小 1, 这个数是 ()。

5、在□里填上合适的数。

$$\begin{array}{llll} 65 - \square = 32 & \square - 22 = 22 & 32 + \square = 62 & \square - 34 = 2 \\ 16 + \square = 56 & 45 - \square = 45 & \square - 18 = 80 & \square + 15 = 38 \end{array}$$

6、在○里填上>、<或=。

$$\begin{array}{llll} 92 - 4 \bigcirc 92 - 40 & 76 - 15 \bigcirc 65 - 4 & 23 + 38 \bigcirc 39 + 23 & 80 - 10 \bigcirc 70 - 10 \\ 29 + 30 \bigcirc 30 + 19 & 67 - 34 \bigcirc 67 - 43 & 54 - 30 \bigcirc 54 - 3 & 78 - 36 \bigcirc 78 - 46 \end{array}$$

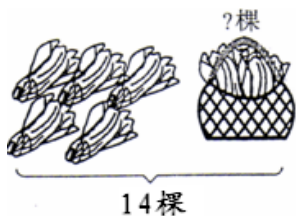
7、找规律填数。

8	18	28				68				99			66					11
---	----	----	--	--	--	----	--	--	--	----	--	--	----	--	--	--	--	----

- 小朋友排队, 丽丽前面有 20 人, 后面有 36 人, 这一排一共有 () 人。

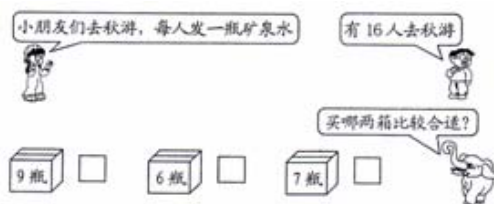
二、解决问题。

1、



$$\square \bigcirc \square = \square ()$$

2、



$$\square \bigcirc \square = \square ()$$

3、



- 奶奶买一个水壶, 给营业员 30 元, 找回 5 元, 一个水壶多少元? $\square \bigcirc \square = \square ()$

- 妈妈买了一个包, 营业员找回 10 元, 妈妈付了多少元? $\square \bigcirc \square = \square ()$

- 小明买一个汽车, 给营业员 35 元, 应找回几元? $\square \bigcirc \square = \square ()$

一年级数学下册同步作业 10

班级_____姓名_____

一、直接写得数。

$28+30=$

$65-40=$

$4+35=$

$20+32+5=$

$17+2=$

$30+46=$

$88-3=$

$90-60+28=$

二、照下面图形表示的数，在空格里填上数。

☆	75	54	65	48	34	44	46
△	20	32	4	40	31	4	2
☆+△							
☆-△							

三、用竖式计算。

$5+54=$

$23+34=$

$65-25=$

$87-6=$

$84-62=$

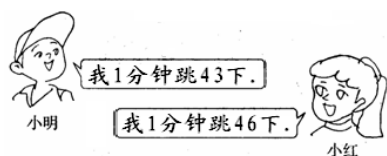
$3+64=$

$5+63=$

$27-22=$

四、解决问题。

1、



(1) 两人一共跳了多少下？

$\square \bigcirc \square = \square ()$

(2) 小红比小明多跳多少下？

$\square \bigcirc \square = \square ()$

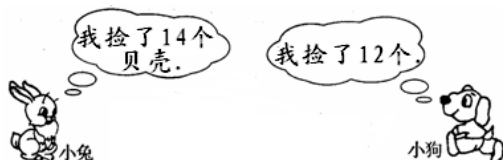
2、小亮家到学校 85 米。



小亮还要走多少米才能到学校？

$\square \bigcirc \square = \square ()$

3、



(1) 小兔和小狗一共捡了多少个？

$\square \bigcirc \square = \square ()$

(2) 小狗比小兔少捡多少个？

$\square \bigcirc \square = \square ()$

一年级数学下册同步作业 11

班级_____姓名_____

一、填空。

- 1、45 里面有 () 个十和 () 个一。100 里面有 () 个十。
- 2、一个数的个位上是 3，十位上是 2，这个数是 ()。
- 3、从大到小写出 4 个十位上是 5 的两位数：() () () ()。
- 4、2 元 4 角 = () 角 1 元 = () 分 4 角 = () 分
1 角 5 分 = () 分 6 分 + 5 分 = () 角 () 分
- 6、80 比 8 多 ()，45 比 50 少 ()。
- 7、小红有 15 元，她最多有 () 张 5 元。
- 8、比 48 大，比 68 小的双数有：()。

二、口算。

$$\begin{array}{ccccc} 17-8= & 53-5= & 50-20= & 33-5= & 2+39= \\ 56+30= & 36+9= & 82-7= & 16-7= & 44-9= \\ 36+6= & 40+8= & 60-5= & 13-5= & 15-9= \end{array}$$

$$45-40+9= \quad 24-9+20= \quad 100-70+60=$$

三、在○里填上>、<或=。

$$\begin{array}{cccc} 32 \bigcirc 62 & 74-8 \bigcirc 65 & 65-5 \bigcirc 70 & 52-4 \bigcirc 46 \\ 34 \bigcirc 7+25 & 1 \text{ 角 } 6 \text{ 分 } \bigcirc 16 \text{ 分 } & 1 \text{ 元 } \bigcirc 9 \text{ 角 } 8 \text{ 分 } & \end{array}$$

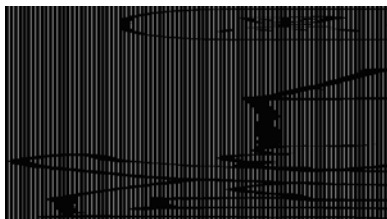
四、在 () 里填上合适的单位“元”、“角”、“分”。

- 一件上衣 50 ()； 一支钢笔 12 ()；
一本练习本 5 ()； 一支铅笔 3 () 5 ()。

五、把合适的数圈起来。

- (1) 79 和 81 中间的数是 (单数 双数)。
- (2) 一个两位数，从右边起，第一位是 3，第二位是 7，这个数是 (37 73)。
- (3) 足球的价钱是 30 元，篮球的价钱比足球贵得多，篮球可能是 (23 元 37 元 80 元)。
- (4) 两个数相加，一个加数增加 5，另一个加数减少 5，它们的和 (增加 10 减少 10 不变)。

七、



- (1) 黑键和白键一共有几个？ $\square \bigcirc \square = \square$ ()
- (2) 黑键比白键少几个？ $\square \bigcirc \square = \square$ ()

一年级数学下册同步作业 12

班级_____姓名_____

一、用竖式计算。

$85-7=$

$26+54=$




$90-5=$

$63+18=$

$76-68=$

二、统计下面三种水果的数量。



水果			
数量			

从上面的统计表中，你知道了什么？把你知道的写下来，越多越好哦。

三、请家长帮忙报下面的电话号码，小朋友用画√的方法统计每个数字出现的次数，然后填写统计表。

4813246

4890570

4823667

4531006

4670732

4829040

4831468

4854192

0		5	
1		6	
2		7	
3		8	
4		9	

数 字	0	1	2	3	4	5	6	7	8	9
出现次数										

四、填一填。

书包的价钱是 65 元，小明的钱正好可以买一个书包，小明最多有（ ）张十元。小丽买书包付的全部都是十元，小丽最少要付（ ）张十元。

一年级数学作业

班级_____姓名_____

一、算一算。

$$\begin{array}{ccccc}
 36+40= & 53-8= & 96-60= & 80-8= & 55+7= \\
 24-8= & 54-3= & 20-6= & 83+8= & 94-8= \\
 60+40= & 53-5= & 3+73= & 49+3= & 70-6=
 \end{array}$$

二、笔算。

$$\begin{array}{cccc}
 19+52= & 38-29= & 27+14= & 8+47=
 \end{array}$$

$$\begin{array}{cccc}
 9+84= & 43-24= & 2+29= & 46-9=
 \end{array}$$

三、找出 2006 年的年历，观察每个月份的天数，先用画√的方法进行统计，再填写统计表。

31 天	
28 天	
30 天	

天 数	31 天	28 天	30 天
月 数			

四、填一填。

- 1、减数是 7，被减数是 62，差是（ ）。
- 2、一个加数是 9，另一个加数是 35，和是（ ）。
- 3、72 比 7 大（ ），6 和 85 相差（ ）。
- 4、比 25 大 9 的数是（ ），（ ）比 30 小 2。

五、解决问题。

玩具名称	汽 车	小 熊	积 木	飞 机	布娃娃	火 车
价 钱	26 元	13 元	7 元	45 元	19 元	38 元

- 1、小明想买两件不同的玩具。

(1) 最少要花多少钱？_____ (2) 最多要花多少钱？_____

- 2、小丽的钱正好可以买一架飞机，她最多有（ ）张十元。

- 3、小红买一个火车，付的全是十元，她最少要付（ ）张十元。

一年级数学下册同步作业 13

班级_____姓名_____

一、填一填。

- 1、79 比 () 多 1, 比 () 少 1; 28 比 30 少 (), 67 比 65 多 ()。
- 2、95 里面有 () 个和 () 个十。10 个十是 ()。
- 3、5 个十加 2 个十是 () 个十, 就是 ()。
- 4、有一个两位数, 个位上最大的一位数, 十位上的数比个位上的数小 1, 这个数是 ()。

5、在□里填上合适的数。

$$\begin{array}{llll} 65 - \square = 32 & \square - 22 = 22 & 32 + \square = 62 & \square - 34 = 2 \\ 16 + \square = 56 & 45 - \square = 45 & \square - 18 = 80 & \square + 15 = 38 \end{array}$$

6、在○里填上>、<或=。

$$\begin{array}{llll} 92 - 4 \bigcirc 92 - 40 & 76 - 15 \bigcirc 65 - 4 & 23 + 38 \bigcirc 39 + 23 & 80 - 10 \bigcirc 70 - 10 \\ 29 + 30 \bigcirc 30 + 19 & 67 - 34 \bigcirc 67 - 43 & 54 - 30 \bigcirc 54 - 3 & 78 - 36 \bigcirc 78 - 46 \end{array}$$

7、找规律填数。

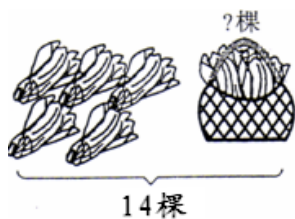
8	18	28				68				99			66					11
---	----	----	--	--	--	----	--	--	--	----	--	--	----	--	--	--	--	----

- 8、小朋友排队, 丽丽前面有 20 人, 后面有 36 人, 这一排一共有 () 人。

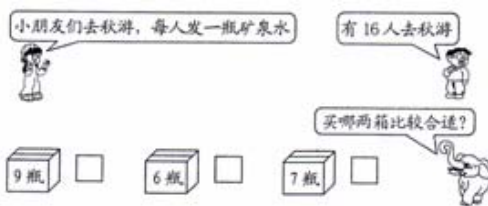
二、解决问题。

1、

2、



$$\square \bigcirc \square = \square ()$$



$$\square \bigcirc \square = \square ()$$

3、



- (1) 奶奶买一个水壶, 给营业员 30 元, 找回 5 元, 一个水壶多少元? $\square \bigcirc \square = \square ()$

- (2) 妈妈买了一个包, 营业员找回 10 元, 妈妈付了多少元? $\square \bigcirc \square = \square ()$

- (3) 小明买一个汽车, 给营业员 35 元, 应找回几元? $\square \bigcirc \square = \square ()$