
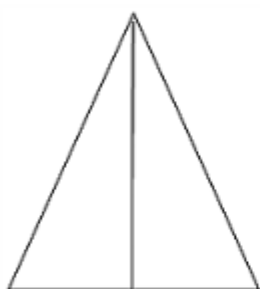




上海逸夫小学入学考试试题


1. 一组数字，找出其中规律，并填写完整：1.2.3.4.6 () 12
2. 一组小朋友玩老鹰捉小鸡，有一位扮演老鹰，一位做母鸡，还有 8 个做小鸡。
请问再来 3 组，一共有几位小朋友？
3. $10+8=?$
4. 老师说：8 个小朋友玩捉迷藏，已抓住 4 个还剩几个？
5. 有两杯果汁，宝宝先喝了半杯，妈妈又到满了；宝宝又喝了半杯，妈妈又倒满了，最后宝宝都喝完了，请问宝宝共喝了几杯？
6. 数数几个三角形；数数几个正方形；



7. 草莓和桃子各代表一个数，草莓加桃子等于 7,草莓加草莓等于 8,草莓和桃子各是几？
8. 读儿歌
三轮车：
三轮车跑的快，
里面坐个老太太，
要一块给十块，
你说奇怪不奇怪！
9. 一堆巴掌大的硬纸牌代表数字，圆形牌代表 1,长方代表 2，三角 3,正方 4,五角星 5。说一个数，把加起来的等于这个数的牌举起来。
A.拼 6
B.拼 10
C.拼 13
10. 自己读谜面，然后猜
A.一个小姑娘，穿着黄衣裳，你要欺负她，她就射一枪
B.一间小房子，有门没有窗，外面热里面冷
11. 数学填数
 $2+()=13$; $13-()=8$; $3+5=()$
 $4+6=()$; $8+6=()$; $13+8=()$
12. 比 67 大的数说 3 个，比 67 小的数说 3 个
13. 幼儿园的苹果吃了一半还剩 20 个，幼儿园原来有多少个苹果？
14. 填数：
其一、8 () 10 5 12 6 () 7;
其二、1 2 3 1 3 5 1 4 7 1 () ()
15. 有三个杯，装三个不同量的水，加入糖后，哪杯最甜？为什么？



16. 一张纸撕一次 变成三张
17. 一张纸撕一次 撕出四个口
18. 六根牙签摆出 5 个正方形
19. 四根牙签摆出 3 个三角形
20. 梳子除了可以梳头之外, 还可以用来做什么用?
21. 钢笔除了可以写字之外, 还可以用来干什么?
22. 假设 1 是学猫叫, 2 是蹲, 3 是站, 4 是举手, 5 是转圈。然后听老师指令, 做出相应的动作。
23. 根据要求串珠子, “黑白黑黑白白”后面接着串。
24. 小明能推动汽车, 为什么
25. 小明不喜欢穿高跟鞋, 小明换灯泡不用梯子, 小朋友你们认为小明有什么特征
26. 小红参加数学竞赛, 和参加竞赛的每个人握一次手。小红一共握了 39 次手, 问参加数学竞赛的一共有多少人
27. 评价一下自己在幼儿园里的情况
28. 儿歌:老师说一遍,小朋友复述一遍:(老师只念一遍)
春天到了,花儿笑了,
夏天到了,知了叫了,
秋天到了,枫叶红了,
冬天到了,雪花飘飘
29. 河边有 7 只小鸭子和 1 只鸭妈妈要过河,其中 4 只小鸭子过了河,问还剩几只小鸭子
30. 公共汽车上, 第一站上来 5 个人,第二站下去 2 人,第三站上来 3 人, 问:车上剩几个人,售票阿姨卖了几张票
31. 打节奏, (嗒 嗒 嗒嗒)问: 少一拍怎么打,少二拍怎么打,少三拍怎么打
32. 我们第一次见面, 还不认识你, 你能向老师介绍一下你自己吗?
33. 如果待会儿出去的时候, 发现爸爸妈妈不见了, 怎么办?
34. 请你重新排列一下这四幅图的顺序, 然后编成一个故事。





35. 评价一下自己在幼儿园里的情况
36. 春夏秋冬的区别和特征
37. 你和小朋友们排成一队做操，从前面数你是第 6 个，从后面数你是第 5 个小朋友，请问一共有几个小朋友？
38. 小朋友你有什么特别的爱好吗？能不能在这里表演一下。
39. 妈妈今年 30 岁，爸爸比妈妈大 3 岁，想想再过 5 年后，爸爸比妈妈大几岁？
40. 两个盒子里各有 5 块糖，从第一个盒子里拿出 2 块放入第二个盒子，现在两个盒子里一共有多少块？
41. 小朋友排队，从左向右数小红排第 7，从右向左数小红排第 8，这一排队伍一共多少人？
42. 小芳买拼音本用了 6 角钱，还剩 4 角钱，小芳原来有几角钱？合多少元？
43. 黑兔、黄兔和白兔三只兔子在赛跑。黑兔说：“我跑得不是最快的，但比白兔快。”请你说说，谁跑得最快？谁跑得最慢？（ ）跑得最快，（ ）跑得最慢。
44. 自我介绍
指导语：小朋友。今天老师与你交朋友，你告诉我你家的情况好吗？老师问你，你听清楚，回答老师。
- (1) 你姓什么？叫什么名字？你今年几岁了？
 - (2) 你家住在哪里？你家有几口人？
 - (3) 你爸爸叫什么名字？干什么的？
 - (4) 你妈妈叫什么名字？干什么的？你长大了想做什么？
 - (5) 现在，你把家里的情况连起来对老师说一遍，怎么说呢？
45. 一个数一个节拍，按次以适当的速度报一组数字，让孩子重复，先检测一组，通过 1 组，再检测下面一组，没通过再检测 2 组，直到七组测完为止。

(1) 检测 1

2 4 6 8
3 4 2 9
8 2 4 5 7
2 9 8 7 4 2
5 6 7 2 3 9 4
2 5 3 4 8 6 7
5 3 8 7 1 2 3 4 5

(2) 检测 2

1 3 5 7 9 1 1



2	4	6	8	10	12	14		
1	5	6	7	8	9	10	12	
3	6	9	9	6	3	5	7	6
9	8	5	2	1	3	6	10	
2	1	5	9	7	1	3	5	8
7	9	6	4	8	3	5	2	

46. 为啥北极熊不吃企鹅?
47. 一个正方形是四个角, 问: 在角上切了一个角之后还剩几个角?
48. 常识题: 鸡和鸭有什么不同?
49. 小红参加数学竞赛, 和参加竞赛的每个人握一次手。小红一共握了 39 次手, 问参加数学竞赛的一共有多少人?
50. 小鸡和小鸭一起在路上走, 小鸭掉到坑里了, 小鸡应该怎么把小鸭救上来?