



## 一年级数学下册期末试卷

一、计算。(12+4+6+6=28 分)

1、口算。

$12-8=$	$68+7=$	$89+2=$	$53-12=$	$17+9=$
$99-90=$	$71-6=$	$76+23=$	$43+8=$	$87-55=$
$31+45=$	$84-41=$	$47-9=$	$13+60=$	$40+14=$
$48-24=$	$78-20=$	$58+10=$	$81+12=$	$20+8=$
$38-6=$	$78+8=$	$68-60=$	$53-3=$	

2、 $70+5+10=$                        $25-5-18=$   
 $54+3-5=$                        $70-50+42=$

3、竖式计算

$36+54=$                        $64+17=$                        $98-89=$                        $70-67=$

4、病题门诊

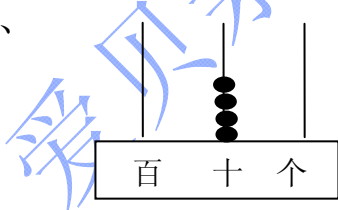
$$\begin{array}{r} 5 \\ +24 \\ \hline 74 \\ ( ) \end{array}$$

$$\begin{array}{r} 80 \\ -78 \\ \hline 12 \\ ( ) \end{array}$$

$$\begin{array}{r} 56 \\ +37 \\ \hline 83 \\ ( ) \end{array}$$

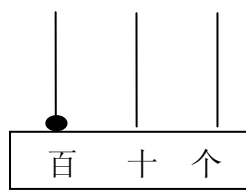
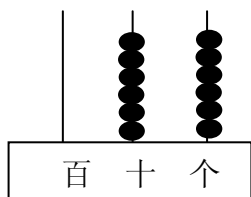
二、填空(每空 0.5 分, 共 24 分)

1、



写作 (       )      写作 (       )      写作 (       )

读作 (       )      读作 (       )      读作 (       )



2、78 里面有 (     ) 个十和 (     ) 个一。

3、92 十位上数是 (     ), 表示 (     ) 个十, 个位上数是 (     ), 表示 (     ) 个 (     )。

4、比 69 多 21 的数是 (     ), 比 69 少 21 的数是 (     )。



5、最大的两位数是（ ），最大的一位数是（ ），最大的两位数比最大的一位数多（ ）。

6、和 79 相邻的两个数是（ ）和（ ）。

7、（1）写出一个个位上是 6 的两位数。（ ）

（2）写出一个个位上是 0 的两位数。（ ）

（3）写出一个十位上是 4 的两位数。（ ）

（4）按照从小到大的顺序排列这三个数（ ）>（ ）>（ ）

8、在○填上“<”、“>”、“=”。

$$87-30 \bigcirc 87-3$$

$$52+40 \bigcirc 52+4$$

9、找规律，接着写。

	80	60			
--	----	----	--	--	--

95			80	75	70		
----	--	--	----	----	----	--	--

		83		
		47		
			19	
		14	5	12

10、54 角=（ ）元（ ）角；

3 元—1 元 5 角=（ ）元（ ）角

11、1 天=( )小时      1 小时=( )分      1 分=( )秒

12、第一节课的上课时间是 8:00，小刚迟到了 14 分钟。那么小刚到教室的时间是（ ）。

三、选择。请将正确答案的序号填在括号里。（5 分）

1、下列数中，（ ）比 76 大，比 79 小。

①89      ②58      ③76      ④78

2、（ ）不是最大的两位数，但比 96 大，而且是双数。

①99      ②98      ③97      ④96

3、红花有 89 朵，黄花比红花少很多。黄花可能有（ ）。

①88 只      ②25 只      ③90 只

4、同学们去浇树，六年级浇了 30 棵，三年级比六年级浇的少一些。三年级可能植树（ ）。

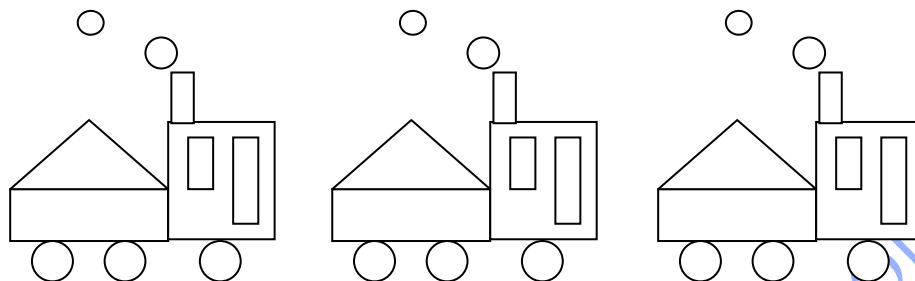
①32 棵      ②26 棵      ③30 棵



5、2张1元，2张5角，5张1角组成（ ）。

- ①3元      ②3元5角      ③10元

#### 四、图形大世界。（11分）



1、你能把各种图形整理一下吗？

图 形					合 计
个 数					

2、（ ）最多，（ ）最少，（ ）和（ ）同样多。

3、 比 多（ ）个，比 少（ ）个。

#### 五、解决问题。（30分。）

1、（6分）

	足 球	跳 绳	毽 子
原 有	35 个	（ ） 个	50 个
借 出	20 个	36 个	（ ） 个
还 剩	（ ） 个	4 个	8 个

2、小明和小芳一起做跳绳，小明跳了 60 下，小芳跳了 48 下。小芳再跳多少下就和小明跳的一样多？（3分）

$$\square \bigcirc \square = \square \text{ (下)}$$

3、果园里有桃树 56 棵，梨树 38 棵。（4分）

(1) 桃树和梨树一共有多少棵？

$$\square \bigcirc \square = \square \text{ (棵)}$$



(2) 桃树比梨树多多少棵?

$$\square \bigcirc \square = \square \text{ (棵)}$$

4、同学们在收废电池，小丽收了 35 节，小亮收了 20 节，小娟收了 16 节。他们 3 人一共收了多少节废电池? (4 分)

$$\square \bigcirc \square = \square \text{ (节)}$$

5、小小商店。(3+3+3+4=13 分)

衬衣 47 元    帽子 8 元    裤子 54 元    鞋 28 元

①爸爸给小明买了一顶帽子和一双鞋，一共用了多少钱?

$$\square \bigcirc \square = \square \text{ (元)}$$

②衬衣比裤子便宜多少钱?

$$\square \bigcirc \square = \square \text{ (元)}$$

③爸爸买一件衬衣，付出 50 元，应找回多少钱?

$$\square \bigcirc \square = \square \text{ (元)}$$

④你还能解决哪些数学问题?

问题: \_\_\_\_\_ ?

$$= \square \bigcirc \square \quad \square$$

六、接着画下去，你所画的第 15 个球是( ) (黑球 白球) (2 分)

