



小学一年级数学试卷

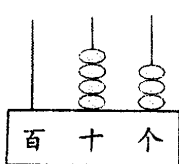
题号	一	二	三	四	五	六	七	八	九	总分
得分										

一、口算。(8分)

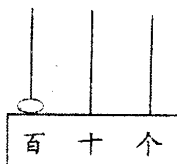
$$\begin{array}{llll}
 18 - 9 = & 26 - 6 = & 8 + 9 = & 11 - 7 = \\
 50 - 20 = & 8 + 36 = & 46 - 8 = & 25 + 50 = \\
 27 + 4 = & 41 - 30 = & 9 + 27 = & 72 - 7 = \\
 19 + 80 = & 20 + 70 = & 39 + 40 = & 97 - 60 =
 \end{array}$$

二、填空。(1、13 小题各 4 分,其余各 2 分,共 32 分)


1. 看图写数。



()



()



() 时 () 分



() 时 () 分

2. 1 个十是(), 10 个十是()。

3. 5 个 5 个地数, 50 后面的一个数是()。

4. 69 这个数个位上是(), 十位上是()。

5. 计算 $35 + 3 = ()$, 先算(), 再算()。

6. 三角形有()条边, 洗脸毛巾是()形。

7. 八十六写作(), 74 读作()。

8. 36 里面有()个十和()个一。

9. 人民币中面值最大的是(), 面值最小的是()。

10. $15 - () = 6$ $() + 25 = 32$ 。



11. 41 比 7 多(), 比 65 多 20 的数是()。

12. 60 分 = () 时 7:35 读作()。

13. 在括号里填上“>”“<”或“=”。

$$48 \bigcirc 45$$

$$1 \text{ 元} \bigcirc 9 \text{ 角}$$

















$$16 - 8 \bigcirc 8$$

$$26 + 9 \bigcirc 36$$

14. 按规律再画两组。

□ △ ○ □ △ ○ _____、_____。

三、数数、填填、画画。(6 分)

     	 () 个	() 最多
   	 () 个	() 最少
  	 () 个	最多的比最少的多()个。

四、判断。(对的在括号里打“√”，错的打“×”。)(5 分)

- 最小的两位数是 10。 ()
- 三十五写作 305。 ()
- 两个 9 的和是 18, 差是 0。 ()
- 一个两位数最高位是个位, 最低位是十位。 ()
- 计算 $24 - (16 - 7)$ 与 $24 - 16 - 7$ 的结果相同。 ()

五、选择。(在正确答案下面画横线。)(5 分)

1. 5 元 2 角表示:

52 元

5.20 元

5.02 元

2. 离 46 最近的数是:

40

30

80

3. 得数小于 50 的算式是:

$34 + 20$

$56 - 2$

$53 - 5$



4. 人民币中最小的单位是：

元 角 分

5. 明明买文具盒用去 3 元 7 角，还剩 5 元，他原来有钱：

3 元 2 角 4 元 2 角 8 元 7 角

六、连线。(8 分)

$17 - 8$

29

$28 - 8$

$20 + 4$

$23 - 4$

39

$13 - 7$

$46 - 2$

$7 + 22$

9

$35 + 9$

$16 + 4$

$29 + 10$

19

$4 + 20$

$14 - 8$

七、计算。(12 分)

$40 + 20 + 8 =$

$26 - 7 + 8 =$

$81 - 7 - 30 =$

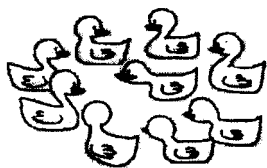
$73 + 20 - 60 =$

$3 \text{ 元 } 8 \text{ 角 } + 1 \text{ 元 } 2 \text{ 角 } =$

$9 \text{ 元 } 8 \text{ 角 } - 5 \text{ 角 } =$

八、看图先提问题，再列式计算。(8 分)

1.



问题：_____

$\square \bigcirc \square = \square \text{ (只)}$



问题：_____

$\square \bigcirc \square \bigcirc \square = \square \text{ (只)}$



九、应用题。(16 分)

1. 水果店运来一批水果, 卖出 21 筐, 还剩 28 筐。水果店运来水果多少筐?

答: 运来水果()筐。

2. 张英用 2 元 5 角钱买了一本画册, 又用 4 元钱买了一个文具盒。她共花了多少元钱?

答: 她共花了()元钱。

3. 小明做了 26 朵红花, 小红做了 20 朵红花, 小红再有多少朵就和小明同样多?

答: 小红再做()朵就和小明同样多。

4. 一年级开家长会, 来了 45 个家长, 搬来 40 把凳子够不够用? 还缺多少把?

答: ()用, 还缺()把。