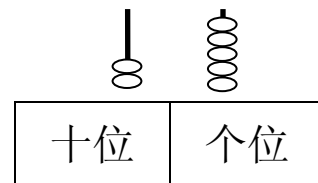


向阳小学 2011——2012 学年度第二学期期中考试小学一年级数学试卷

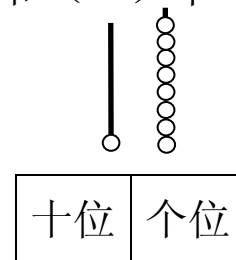
题号	1	2	3	4	5	6	总分
得分							

一、我会填空（共 42 分，4 小题 5 分，其余每空 1 分）

1、



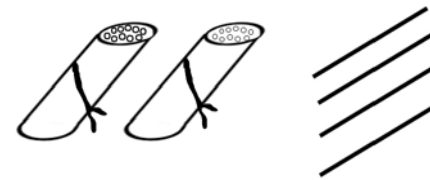
( ) 个十和 ( ) 个一是 ( )



( ) 个十和 ( ) 个一是 ( )



( ) 个十和 ( ) 个一是 ( )



( ) 个十和 ( ) 个一是 ( )

2、 在 ( ) 里填上 “m” 或 “cm”。



课桌高大约 70( ) 开水瓶高约 40( ) 黑板长约 3( )

3、99 在 ( ) 和 ( ) 的中间。

4、在下面各数的后面连续写出五个数来。

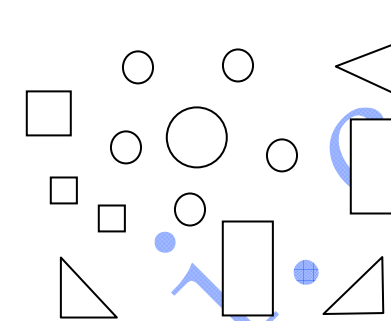
46 \_\_\_\_\_

85 \_\_\_\_\_

5、 ( ) 厘米 = 1 米 2 m = ( ) cm

100 厘米 = ( ) 米 200 cm = ( ) m

6、



图中有 ( ) 个 □

有 ( ) 个 □

有 ( ) 个 ○

有 ( ) 个 △

7、按规律填数

55、60、65、\_\_\_\_\_、\_\_\_\_\_、\_\_\_\_\_

78、72、\_\_\_\_\_、60、\_\_\_\_\_、\_\_\_\_\_

8、在 ○ 里填上 “>”、“<” 或 “=”。

$20 + 3$  ○  $3 + 20$  、  $90 - 40$  ○  $80 - 40$  、  $87 - 10$  ○ 78

$86 - 40$  ○  $6 + 42$  、  $86 - 40$  ○  $86 - 4$  、  $92$  ○ 100

二、我来当法官（对的打 “√”，错的打 “×”）（共 8 分）

1、足球的形状是圆形。 ( )

2、一个数从右边起，第三位是十位。 ( )

3、100 里面有 10 个一 ( )

4、62 里面有 6 个十和 2 个一 ( )

三、我会选（把正确答案的序号填在括号里）（共 8 分）

1、“22” 个位上的 “2” 表示 ( )

① 2 个十 ② 22 个一 ③ 2 个一

2、1 m ( ) 89cm

① 小于 ② 等于 ③ 大于


3、一个减法算式，被减数是 40，减数是 9，差是 ( )。

① 49 ② 31 ③ 30

姓名

班级

学校



4、铅笔长（ ）厘米 ① 4 ② 5 ③ 3

#### 四、按要求完成下面各题（共 8 分）

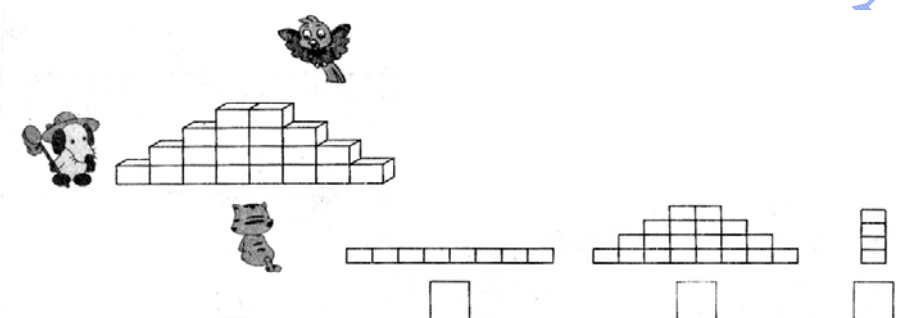
1、右边的青蛙可能吃了多少只害虫？（画“√”）（2 分）

我吃了 88 只害虫。

我吃的害虫比你少多了。

82	80	39

2、在小花猫看到的图下面画“√”（2 分）



3、把得数排一排（4 分）

$48 + 15 =$ 
 $76 - 26 =$ 
 $97 - 2 =$

$>$ 

 $>$

#### 五、竖式计算（共 8 分）

$78 + 12 =$ 
 $99 - 35 =$ 
 $65 + 34 =$   
 $79 - 24 =$

2、看谁算得又对又快（4 分）

$70+30=$ 
 $67-12=$ 
 $4+63=$ 
 $55-5=$   
 $88+6=$ 
 $62+26=$ 
 $84-40=$ 
 $96-51=$

#### 六、解决问题（共 26 分）

1、小熊已经走了 35 米，离学校 55 米，小熊家离学校有多少米？

$\bigcirc$    $=$   (米)

我们班捐了 39 本。



小明



小红

我们班再捐 12 本书，就和你们班捐的一样多了。

小红班捐了多少本书？

$\bigcirc$    $=$   (本)

3、



小丽

我有 34 枚邮票。



小芳

我有 30 枚邮票。

(1) 小芳比小丽少多少枚邮票？ (2) 小丽和小芳一共有多少枚邮票？

1

$-\square = \square$  (枚)

$+\square = \square$  (枚)

爱贝亲子网 [www.i-bei.com](http://www.i-bei.com)