

2012-2013 第一学期小学一年级数学期末测试卷

2013.01

一、直接写出得数

$2+4=$

$7+6=$

$4+3=$

$7-2=$

$9-7=$

$10-4=$

$6+6=$

$7+8=$

$5+9=$

$6+3=$

$3+5=$

$2+6=$

$8-5=$

$4-2=$

$8+9=$

$7+7=$

$6+8=$

$6+4=$

$2+8=$

$6-3=$

$9+7=$

$5+3=$

$9+2=$

$8-4=$

$8-0=$

$3+7=$

$8+6=$

$4+8=$

$7-1-5=$

$4+4+3=$

$1+8+3=$

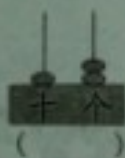
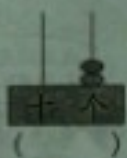
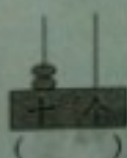
$7+2+10=$

$9-1+8=$

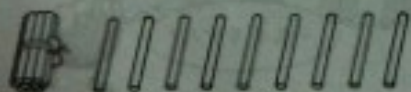
$14-10+9=$

二、填空

1. 看图写数。



2.



上面的小棒表示()个十和()个一,表示的数是()。再添1根小棒就是()个十,表示的数是()。

3. 小明读一本书,今天从第10页读到第16页,他今天读了()页。

4.



$$\square + \square = \square$$

$$\square - \square = \square$$

$$\square - \square = \square$$

5. 在○里填“>”“<”或“=”。

$$8 \bigcirc 18$$

$$5 + 7 \bigcirc 10$$

$$9 + 0 \bigcirc 9$$

6. 学校原来准备星期一开运动会,因为下雨,推迟3天开,推迟后,运动会星期()开。

7. ☆ ☆ ☆ ☆ ☆ ☆ ★ ☆ ☆ ☆ ☆

从右边起,第()个是★,★的左边有()个☆,一共有()个五角星。

8. □ □ □ □

○ ○ ○ ○ ○ ○

△ △ △ △ △ △ △ △ △

□比○少()个,

○比△少()个,


△比□多()个。

9. □ □ □ □

先添上2个,再划去3个,还剩几个?

□ □ □ □

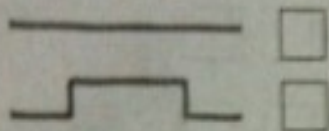
$$8 \bigcirc 2 \bigcirc 3 = ()$$

10. 要把右边的图形拼成一个大正方体,至少还需要()个 .



三、选择合适的答案,在□里画“√”

1. 哪根长一些?

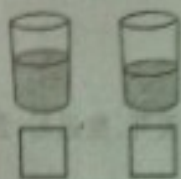


2. 哪道算式和数大?


$7+7$ ☐

$7+9$ ☐

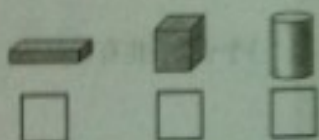
3. 哪个杯里盛的水多一些?



4. 哪一个重一些?



5. 哪一个正方体?



6. 括号里最大能填几?


$9 + () < 15$

4 ☐

5 ☐

6 ☐

7. 哪一个数比较接近20?



18 ☐

12 ☐

9 ☐

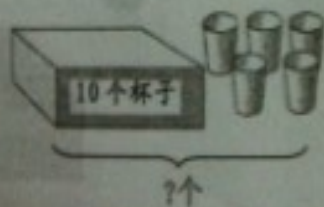
8. 船上有12个座位,7名男生和5名女生坐这条船,座位够吗?

够 ☐


不够 ☐

四、解决实际问题

1. 看图写算式



\bigcirc $=$




\bigcirc $=$

2. 王小丽做了9朵纸花, 李小芳做的和王小丽同样多。两人一共做了多少朵纸花?

$$\square \bigcirc \square = \square \text{ (朵)}$$

3.



- (1) 一次最多能端走多少个水果?

$$\square \bigcirc \square = \square \text{ (个)}$$

- (2) 一次最少能端走多少个水果?

$$\square \bigcirc \square = \square \text{ (个)}$$

4. 有16个小朋友, 每人发1个苹果, 还需要多少个苹果?



$$\square \bigcirc \square = \square \text{ (个)}$$

5.



$$\square \bigcirc \square \bigcirc \square = \square \text{ (人)}$$