

逸夫小学 2012—2013 学年下期一年级数学能力抽测试卷

一、我能写得又快又对。(10 分)

$$\begin{array}{llll} 17 - 8 = & 11 - 3 = & 24 + 5 = & 60 + 8 - 60 = \\ 4 + 20 = & 70 + 6 = & 65 - 5 = & 18 - 5 + 6 = \\ 87 - 7 = & 6 + 8 = & 16 - 9 = & 65 - 60 + 8 = \\ 19 - 10 = & 5 + 8 = & 14 - 6 = & 18 - 9 + 7 = \end{array}$$

二、我会填。(34 分)

- (1) 2 个十和 4 个一是 ( )。6 个十是 ( )。
- (2) 55 左边的 5 表示 ( ) 个 ( )。
- (3) 89 前面一个数是 ( ), 后面一个数是 ( )。
- (4) 个位上是 2, 十位上是 8 的两位数是 ( )。
- (5) 七十六写作 ( ), 90 读作 ( )。

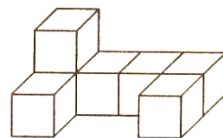
2、按规律填数。

			70			40	
--	--	--	----	--	--	----	--

		56					61	
--	--	----	--	--	--	--	----	--

- 3、5 元 4 角 = ( ) 角    70 角 = ( ) 元    ( ) 分 = 4 角
- 1 元 - 3 角 = ( ) 角    5 角 + 7 角 = ( ) 元 ( ) 角
- 4、用 ( ) 个相同的小正方体, 可以摆出一个大正方体。
- 5、长方形和正方形都有 ( ) 条边, ( ) 个角, 其中四条边都相等的是 ( )。
- 6、在 48、56、45、34、50、97、43 这些数中,
  - (1) 十位上是 4 的数有 ( )。
  - (2) 比 48 大得多的数是 ( ), 最接近 48 的数是 ( )。
  - (3) 把这些数从大到小排一排: \_\_\_\_\_

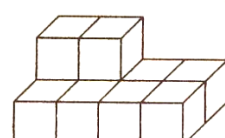
7、数一数。



( ) 块



( ) 块



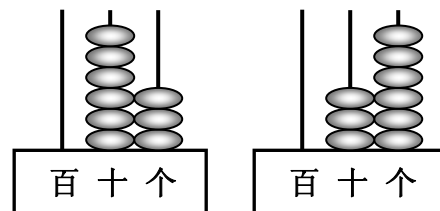
( ) 块

三、我会选。(14 分)

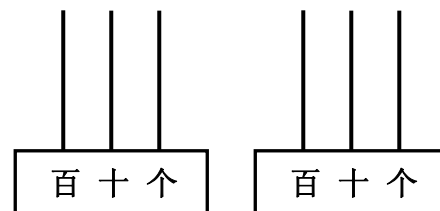
- (1) 妈妈给我买了一个 35 ( ) 的书包。  
A、元    B、角    C、分
- (2) 星期天, 小林在公园花 5 ( ) 钱买了一个气球。  
A、元    B、角    C、分
- 清明节, 小兰做了 68 朵花, 小新做的比他少得多, 小新做了 ( ) 朵。    A、70    B、64    C、25
- 一 (5) 班有 47 人去春游, 坐 ( ) 辆汽车比较合适。  
A、50 座    B、40 座    C、60 座
- 用同样长的小棒摆 1 个长边形, 最少要用 ( ) 根小棒。  
A、6    B、4    C、8
- 张老师的年龄比 25 大, 但比 32 小, 张老师今年可能 ( ) 岁。  
A、28    B、24    C、38
- 小朋友们看电影, 小亮坐在 10 排 6 号, 他后面的同学坐在 ( )。  
A、9 排 6 号    B、10 排 8 号    C、11 排 6 号

四、我会动手操作。(21 分)

- (1) 根据计数器先写出得数, 再比较大小。
- (2) 在计数器上先画出算珠, 再比较大小。




( ) ○ ( )




45 ○ 100

2、 按要求涂一涂。



- (1)、给第3行第4朵涂上红色。 (2)、给第1行第2朵涂上绿色。

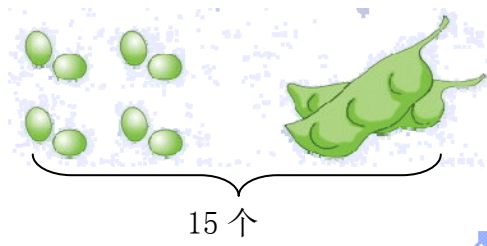
3、根据要求画一画。



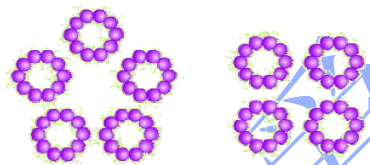
- (1) 在◆上面画□，左面画☆，右面画○。  
(2) ☆在△的上面，请在合适的地方画出△。

五、我会解决实际问题。(21分)

1、 ? 个



2、欢欢要做16朵花，已经做了



还要做多少朵?

$\square \bigcirc \square = \square ( )$        $\square \bigcirc \square = \square ( )$



原来有多少本书?

$\square \bigcirc \square = \square ( )$

4、小小商店



8元      12元      4元      13元

(1) 兰兰有4元钱，想买一个文具盒，还差多少钱?

$\square \bigcirc \square = \square ( )$

(2) 小星有20元钱，买一支笔和一辆小汽车，应找回多少钱? 请列式算一算。