

小学入学考试试题分类汇总

一、说话能力检测 (3 分)

1、 自我介绍 (0.5 分)

指导语：小朋友，今天老师和你交个朋友，你告诉我你家的情况好吗？老师问你，你听清楚，回答老师。

你叫什么名字？你今年几岁了？你家住在哪里？你家有几口人？ (0.1 分)

你爸爸叫什么名字？干什么的？你妈妈叫什么名字？干什么的？ (0.1 分)

现在，你把家里的情况连起来对老师说一遍，怎么说呢？老师教你。

我叫（ ），今年（ ）岁，我家住在（ ），全家有（ ）口人，我爸爸是干（ ）

的，我妈妈是（ ）的。 (0.3 分)

2、 听故事，并能按要求说一说。 (1 分) (注意力 0.5，表述 0.5)

3、 看图说话 (1 分)

要求：说话态度：大胆（不拘束）0.5 分；说话要完整连贯 0.5 分

4、 口语交际：0.5 分

a 你去超市要买双马牌水彩笔，但是找不到，你该怎样对营业员阿姨说呢？ (0.1 分)

阿姨告诉你以后你该怎么说？ (0.1 分)

你喜欢吃什么水果？描述颜色、形状、味道等。 (0.3 分)

b 你要去阳光小区找好朋友小强玩，可不知道怎么去阳光小区，正好遇到一个大哥哥，你会对他怎么说？ (0.1 分) 大哥哥告诉你以后，你该怎么说？ (0.1 分)

你在生活中见过哪种动物？描述样子、声音等。 (0.3 分)

二、记忆能力检测 (0.5 分)

操作要求：报数的速度要均匀，一个数一个节拍，按次以适当的速度报一组数字，逐项得分。

A 2 4 6 8 (0.1 分)

8 2 4 5 7 (0.1 分)

5 6 7 2 3 4 0.1 分)

5 3 8 7 1 2 5 (0.1 分)

1 5 6 7 8 9 10 12 (0.1 分)

B 3 4 2 9 (0.1 分)

2 9 8 4 2 (0.1 分)

2 5 3 4 8 7 (0.1 分)

2 4 6 8 10 9 14 (0.1 分)

3 6 2 9 6 3 5 7 (0.1 分)

三、英语能力测验 (1 分)

能说出十个英语单词，说出一个给 0.1 分。 提示：水果、动物

四、其他才艺展示 (0.5 分)

小朋友，你会唱歌、跳舞、说、背诵古诗、画画吗？选你最喜欢的展示一下。

数学试题

1、 数数。

(1) 顺数、倒数、断数任选其中一种。 (0.5 分)

(2) 跳数 (2 个、5 个、3 个) (0.5 分)

2、 10 以内加减法。5 题 每题 0.2 分

3、 20 以内加减法。5 题。

每题 0.2 分

4、 摆学具。

(1) 按照老师要求摆学具

第一行摆 () 个，第二行比第一行多 (少) 摆 ()

0.4 分

(2) 老师摆两行，学生回答

a 第几行多 (少)，多 (少) 多少？

0.3 分

b 第 () 行再摆几个，就和第 () 行同样多。

0.3 分

5、思维测试

在 10 题中任选 2 题

每题 0.5 分

$6+2=$

$4+3=$

$7+2=$

$5+4=$

$7-5=$

$9-6=$

$7-5=$

$6-4=$

$4+3=$

$1+4=$

$6+4=$

$8-6=$

$2+7=$

$0+7=$

$2+5=$

$5+2=$

$6-4=$

$7-5=$

$6-6=$

$9+1=$

$5-2=$

$3+6=$

$7-4=$

$4+5=$

$3+7=$

$5+3=$

$5+5=$

$2+6=$

$9-4=$

$6-2=$

$6-2=$

$8-4=$

$5-4=$

$8-1=$

$8+1=$

$9-5=$

$8+1=$

$2+7=$

$7-6=$

$8+1=$

$3+4=$

$5+4=$

$4+4=$

$7+3=$

$8-6=$

$4-3=$

$5-3=$

$9-6=$

$7-5=$

$9-2=$

$6+3=$

$2+5=$

$5+5=$

$3+5=$

$8-5=$

$4+6=$

$2+4=$

$6-5=$

$2+7=$

$0+9=$

$8+5=$

$5+8=$

$11-5=$

$6+8=$

$14-9=$

$12-9=$

$14+6=$

$14-8=$

$12-8=$

$5+7=$

$9+8=$

$5+8=$

$11-7=$

$6+5=$

$18-8=$

$13+7=$

$7+6=$

$8+6=$

$10+8=$

$12-8=$

$18-9=$

$6+9=$

$6+7=$

$6+5=$

$9+8=$

$15-6=$

$18-6=$

$13-7=$

$5+6=$

$15-8=$

$15-6=$

$3+8=$

$14-5=$

$9+9=$

$12-9=$

$5+7=$

$11-2=$

$13-8=$

$13-9=$

$4+8=$

$13-5=$

$16-8=$

$8+7=$

$6+9=$

$15-3=$

$3+8=$

$16-8=$

$8+9=$

$16+3=$

$5+7=$

$4+7=$

$17-6=$

$20-4=$

$14-6=$

$6+9=$

$12-9=$

$3+10=$

$3+9=$

$13-5=$

$3+9=$

- 1、 弟弟今年 4 岁，哥哥今年 8 岁，10 年后，哥哥比弟弟大多少岁？
- 2、 一只小黑羊排在小白羊队伍里，从前数小黑羊是第 2 只，从后面数小黑羊是第 4 只，

这队小羊一共有多少只？

- 3、 10 个人排队放学，小红的前面有 4 个人，小红的后面有几个人？
- 4、 小红有 5 本书，晓东有 9 本书，晓东给小红几本书，两人的书一样多？
- 5、 用 5 根小棒搭 2 个三角形
- 6、 10 名同学排成一队，从前往后数，小红排在第 4 个，从后往前数，小红排在第几个？
- 7、 小红用同样的钱，可以买 3 枝铅笔或 2 本练习本，是铅笔贵还是练习本贵？
- 8、 两棵树上一共有 9 只小鸟，有 5 只小鸟飞到了第二棵树上，现在两棵树上一共有多少只小鸟？
- 9、 小白兔有 8 个萝卜，第一天吃了一半，第二天又吃了剩下的一半，小白兔还剩几个萝卜？
- 10、 小红把 10 根绳子结起来，形成一根长绳子，这根长绳子一共有几个结？
- 11、 儿园买了一些苹果发给小班的 10 个小朋友，每人发 1 个苹果，结果还缺 2 个苹果，幼儿园买来多少个苹果？
- 12、 下面 4 行数中，哪一行的规律和其他三行不一样

7 5 3 1

6 4 2 0


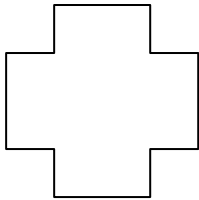

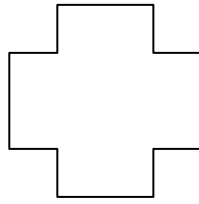

2 4 6 8

9 7 5 3

13、 $5+A=9$ $A=(\quad)$

$A+B=7$ $B=(\quad)$

- 14、 ? 处应画哪一种图形



?

15、一共有几个三角形？



16、数一数，一共有多少个正方体？