

试卷一

一. 填空

1 角= () 个 1 分
 10 分= () 角
 10 角= () 元
 1 元= () 个 2 角
 2 个 5 角= () 元
 10 元= () 个 两元

5 个 2 分= () 角
 1 角= () 个 5 分
 1 元= () 个 1 角
 1 元= () 个 5 角
 10 个 1 元= () 元
 10 元= () 个 5 元

二. 填空

①一年有_____天，_____个月。一星期有_____天，一个月有_____星期。

②元旦是_____月_____日。

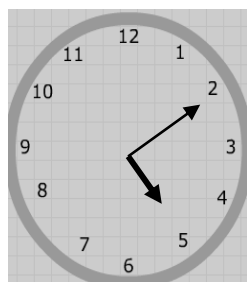
③妇女节是_____月_____日。

④国庆节是_____月_____日。

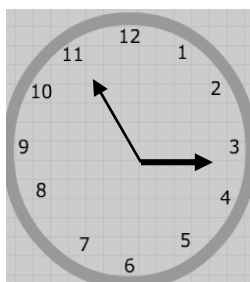
⑤教师节是_____月_____日。

⑥建军节是_____月_____日。

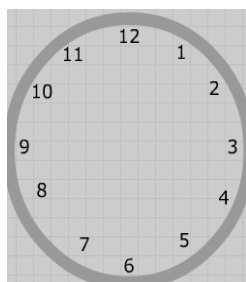
三. 给表添时间画指针。



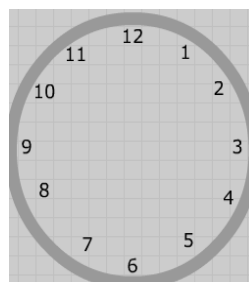
___:___



___:___



2:25



8:50

四. 计算填空

___+1=9

___+2=9

___+3=9

___+4=9

___+5=9

___+6=9

___-1=8

9-2=___

9-3=___

9-4=___

9-5=___

9-6=___

五. 填空并列算式

$$\begin{array}{c}
 9 \\
 \diagdown \quad \diagup \\
 (\quad) \quad 2 \\
 (\quad) + (\quad) = (\quad)
 \end{array}$$

$$\begin{array}{c}
 1 \quad 8 \\
 \diagdown \quad \diagup \\
 (\quad) \\
 (\quad) + (\quad) = (\quad)
 \end{array}$$

$$\begin{array}{c}
 9 \\
 \diagdown \quad \diagup \\
 3 \quad (\quad) \\
 (\quad) + (\quad) = (\quad)
 \end{array}$$

$$\begin{array}{c}
 4 \quad 5 \\
 \diagdown \quad \diagup \\
 (\quad) \\
 (\quad) + (\quad) = (\quad)
 \end{array}$$

$$\begin{array}{c}
 9 \\
 \diagdown \quad \diagup \\
 (\quad) \quad (\quad) \\
 (\quad) + (\quad) = (\quad)
 \end{array}$$

$$\begin{array}{c}
 (\quad) \\
 \diagdown \quad \diagup \\
 3 \quad (\quad) \\
 (\quad) + (\quad) = (\quad)
 \end{array}$$

六. 看图列算式

$$\begin{array}{|c|} \hline 00 \\ \hline \end{array}
 +
 \begin{array}{|c|} \hline 000 \\ 00000 \\ \hline \end{array}
 =
 \begin{array}{|c|} \hline \\ \hline \end{array}$$

$$\begin{array}{|c|} \hline 00 \\ \hline \end{array}
 +
 \begin{array}{|c|} \hline 000 \\ 000 \\ \hline \end{array}
 =
 \begin{array}{|c|} \hline \\ \hline \end{array}$$

$$\begin{array}{|c|} \hline 00 \\ 0 \\ \hline \end{array}
 +
 \begin{array}{|c|} \hline 000 \\ 000 \\ \hline \end{array}
 =
 \begin{array}{|c|} \hline \\ \hline \end{array}$$

$$\begin{array}{|c|} \hline 0000 \\ 0000 \\ \hline \end{array}
 -
 \begin{array}{|c|} \hline 0 \\ \hline \end{array}
 =
 \begin{array}{|c|} \hline \\ \hline \end{array}$$

$$\begin{array}{|c|} \hline 000 \\ 000 \\ \hline \end{array}
 -
 \begin{array}{|c|} \hline 00 \\ 0 \\ \hline \end{array}
 =
 \begin{array}{|c|} \hline \\ \hline \end{array}$$

$$\begin{array}{|c|} \hline 00 \\ 000 \\ \hline \end{array}
 -
 \begin{array}{|c|} \hline 00 \\ 0 \\ \hline \end{array}
 =
 \begin{array}{|c|} \hline \\ \hline \end{array}$$

七. 应用题

1. 树上有 7 只小鸟，又飞来 2 只小鸟，树上共有几只小鸟？

$$\bigcirc = (\quad) \quad \text{答: } \underline{\hspace{2cm}}$$

2. 机场共有 9 架飞机，飞走了 4 架飞机，还剩几架飞机？

$$\bigcirc = (\quad) \quad \text{答: } \underline{\hspace{2cm}}$$

试卷二

一. 找规律填数

①. $2 . 4 . \underline{\quad} . \underline{\quad} . 10 . \underline{\quad} . \underline{\quad}$

②. $2 . 5 . \underline{\quad} . \underline{\quad} . 14 . \underline{\quad} . \underline{\quad}$

③. $18 . 14 . \underline{\quad} . \underline{\quad} . 2$

④. $32 . 28 . \underline{\quad} . 20 . \underline{\quad} . \underline{\quad}$

⑤. $0 . 3 . \underline{\quad} . 9 . 12 . \underline{\quad} . \underline{\quad}$

二. 计算填空

$11 + (\quad) = 14 \quad 16 - (\quad) = 11 \quad 12 + (\quad) = 18 \quad 17 - (\quad) = 13$

$18 - (\quad) = 13 \quad 15 + (\quad) = 17 \quad 9 - (\quad) - 5 = 2 \quad 2 + (\quad) + 6 = 12$

$3 + (\quad) - 4 = 1 \quad 4 + 0 + (\quad) = 6 \quad 6 - (\quad) + 3 = 7 \quad (\quad) - 3 + 2 = 9$

$(\quad) - 2 + 4 = 7 \quad (\quad) + 2 + 0 = 9 \quad (\quad) + 2 - 3 = 6$

三. 用凑十法计算

$5 + 8 = \quad 3 + 9 = \quad 6 + 8 = \quad 13 - 7 = \quad 17 - 9 =$

$14 - 8 = \quad 12 - 6 = \quad 4 + 8 = \quad 16 - 7 =$

四. 计算并列竖式

$13 + 8 = \quad 14 + 16 = \quad 16 + 16 = \quad 23 + 12 = \quad 33 - 18 =$

$20 - 4 = \quad 22 - 12 = \quad 31 - 16 = \quad 24 - 16 = \quad 26 - 11 =$

五. 应用题

1. 小明有 8 本故事书, 爸爸又给他买了 5 本故事书, 小明又送给小朋友了 2 本, 小明还剩几本书?

列式_____ () 答_____

2. 河里有 9 只小鸭，游走了 4 只，又游来了 7 只，河里还有几只小鸭？

列式_____ () 答_____

试卷三

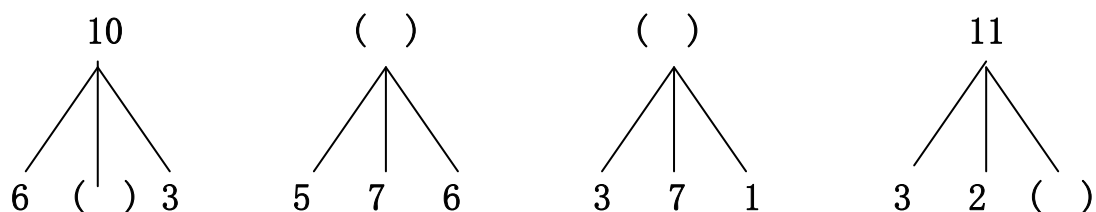
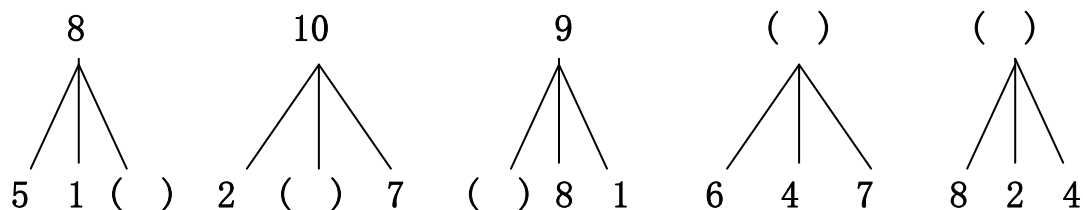
一. 填空

() + 3 = 11 () + 6 = 10 () - 4 = 11 () + 6 = 11 () + 2 = 12

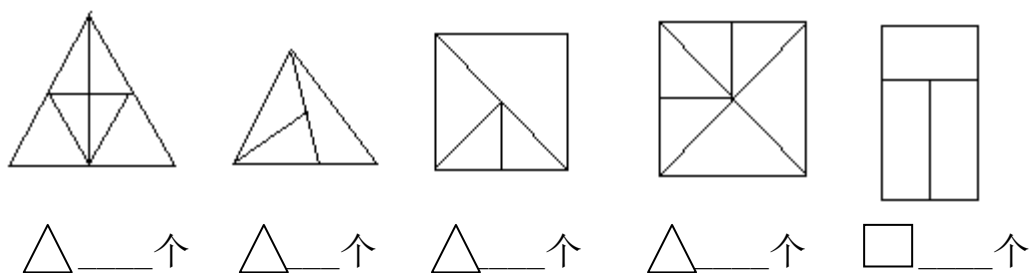
() + 1 = 15 () - 12 = 0 () + 3 = 14 () + 6 = 13 () - 7 = 10

() + 9 = 18 () - 8 = 1 () + 7 = 19 () - 10 = 10 () - 11 = 1

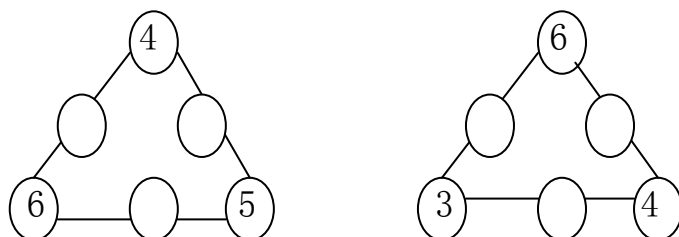
二. 填空



三. 数重叠图形



一. ①在下面 () 里填适当的数，是每条线上的三个数的和都是 12。



②在 里填合适的数，使横竖斜相加和是 15。

6		
	5	
2		

试卷四

一. 填空

①一年有()天, 有()个月, 一个月有()星期, 一星期有()天。

②今天是 9 号, 明天是()号, 昨天是()号。

③1 元=()分 24 角=()元()角

5 元 6 角=()角 30 分=()角

二. 计算并列竖式

11+9= 13+7= 12+18= 18+11= 24+9=

23+18= 23-6= 28-19= 30-12= 33-17=

三. 认识一些生活中的标识。

①. 安全通道  有电危险  理发馆  禁止吸烟 

绿色食品  残疾人通道  国旗  香港区旗 

②. 认识自己的手指名称

大拇指, 食指, 中指, 无名指, 小拇指



五.找规律填数

①. 2 . 4 . 8 . 16 . ____ . 64 .

②. 10 . ____ . ____ . 4 . ____

③. 5 . 8 . ____ . ____ . 17 . ____

④. 14 . 12 . ____ . ____ . 6 .

⑤. 50 . 45 . 40 . ____ . ____ . 25 . ____ . 15 . ____ . ____ .

六. 填空

①. 16 前面的三个双数是() () ()。

②. 8 后面的 3 个单数是() () ()。

③. 两个数相加和是 13，一个加数是 5，另一个加数是()。

④. 一个加数是 7，另一个加数是 5，和是()。

⑤. 一个星期有()天，今天是星期二，昨天是星期()，明天是星期()。

七. 填空

2 对是()个 10 个是()对 6 双是()只

4 双是()只 3 副是()只 9 对是()个