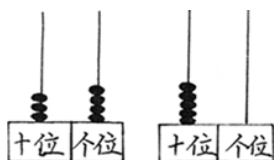


一年级数学下册第一、二单元检测试卷

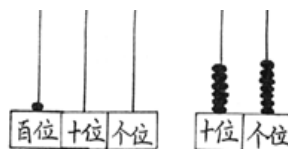
班级_____姓名_____得分_____

一、填一填(20 分)。

(1) 写数并比较大小。



() ○ ()



() ○ ()

(2) 填表。

77	() 个十和 () 个一
63	() 个十和 () 个一
()	3 个十和 1 个一
100	() 个十

(3) 写出下列各数相邻的两个数。

() 49 ()

() 37 ()

() 11 ()

() 51 ()

二、想一想 (20 分)。





●跳绳的可能有几人？（画“√”）

78	45	100

●跳远的可能有几人？（画“√”）

87	78	100

(2)




我们班有 62 人

我们班人数和你
们班差不多



●淘气班可能有几人？（画“√”）

(3)

 60		苹果有 65 个	70



●梨可能有几个？（画“√”）

35	27	85	62

三、连一连(22 分)。

看哪个苹果属于哪棵树？

十位是4的数

个位是4的数

14, 84, 42, 49, 34, 24, 41, 54, 45, 48, 74

四、观察与测量（38分）。

1. 做一做，填 cm 还是 m(12分)。

- (1) 树高 2_____； (2) 一根黄瓜长 18_____；
 (3) 桌子高 70_____； (4) 房子高约 3_____；
 (5) 教室门高大约 2_____； (6) 茄子长约 15_____。

2. 量一量（10分）。

- ①号线段有_____cm；
 ●②号线段有_____cm。

