

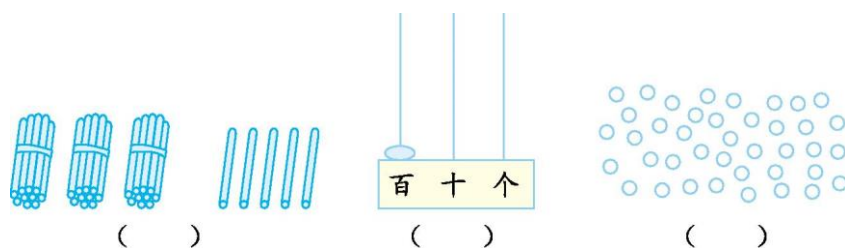
苏教版一年级（下）数学期中测试卷（二）

时间：60 分钟 满分：100 分

题号	一	二	三	四	五	六	七	总分
得分								

一、填一填。(21 分)

1.看图写数。



2.63 里面有()个十和()个一;7 个一和 4 个十合起来是()。

3.一个数从右边起,第一位是()位,十位在第()位,第三位是()位。

4.69 比()少 1;()比 50 多 1。

5.与 40 相邻的两个数是()和()。

6.从小到大写出 3 个个位上是 3 的两位数:() < () < ()



7.

比 少()个;两种球一共有()个。

8.把一张正方形的纸对折再对折,能折出()形、()形或者()形。

二、算一算。(8 分)

座位号

班级

姓名

题

答

要

不

内

线

订

装

$58-8=$ $62-21=$ $40+36=$ $15-7=$

$13+50=$ $40+60=$ $7+32=$ $57-22=$

三、在○里填上“>”“<”或“=”。(6分)

$23 \bigcirc 32$

$100 \bigcirc 99$

$35+24 \bigcirc 60$

$75 \bigcirc 72$

$45 \bigcirc 85-40$

$62+5 \bigcirc 62+10$

四、在()里填上合适的数。(8分)

$46-(\quad)=6$ $(\quad)+32=75$ $38+(\quad)=88$ $(\quad)-25=62$

$29+(\quad)=49$ $36-(\quad)=30$ $48+(\quad)=49$ $(\quad)-24=42$

五、用竖式计算。(16分)

$54+32=$ $68-25=$ $71-40=$ $7+52=$

$34+55=$ $20+49=$ $73+24=$ $65+34=$

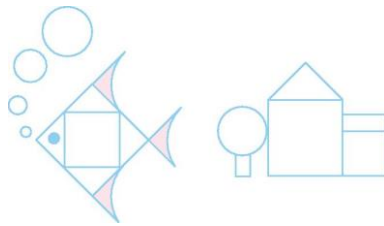
六、操作题。(12分)

1.数一数。



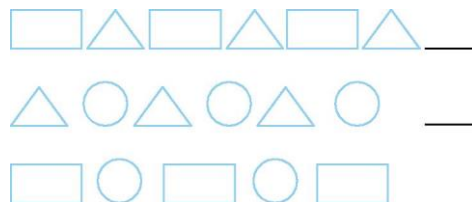
△有()个。□有()个。○有()个。

2.把形状相同的图形涂上相同的颜色。



3.用两个□可以拼成下面哪个图形?在你认为合适的答案下面画“☒”。

4.下一个是什么图形?画一画。



七、解决问题。(29 分)

1.填表。(4 分)

原 有	34 个	()个	28 个	52 本
卖 出	13 个	25 个	()个	()本

还 剩	()个	22 个	8 个	2 本
-----	---------	------	-----	-----

2.爸爸今年 35 岁,妈妈三年前是 30 岁,我今年 5 岁。(10 分)

(1)妈妈今年多少岁?


$$\square \bigcirc \square = \square \quad (\quad)$$

(2)爸爸比我大多少岁?

$$\square \bigcirc \square = \square \quad (\quad)$$

3.《河流乐园》有 28 本,《海底世界》有 20 本,一(1)班有 45 名学生,把这些书分给每人一本,够吗?(5 分)

4.(10 分)



(1)淘气第一次套中了企鹅,第二次套中了小猫,两次一共得了多少分?

$$\square \bigcirc \square = \square \quad (\quad)$$

(2)笑笑也套中了两次,笑笑最少能得多少分?最多能得多少分?

答案

一、1.35 100 40 2.6 3 47 3.个 二 百 4.70 51

5.39 41

6.答案不唯一。如:13 23 33 7.8 20 8.长方 正方 三角

二、50 41 76 8 63 100 39 35

三、< > < > = <

四、40 43 50 87 20 6 1 66

五、86 43 31 59 89 69 97 99

六、1.5 1 2 2.提示:长方形

3.略

4.   

七、1.21 47 20 50 2.(1) $30+3=33$ (岁) (2) $35-5=30$ (岁)

3. $28+20=48$ (本) $48>45$ 够 4.(1) $29+30=59$ (分)

(2)最少: $23+24=47$ (分)

最多: $30+41=71$ (分)