

人教版一年级（下）数学期中测试卷（二）


时间：60 分钟 满分：100 分

| 题号 | 一 | 二 | 三 | 四 | 五 | 六 | 七 | 八 | 总分 |
|----|---|---|---|---|---|---|---|---|----|
| 得分 | | | | | | | | | |

一、选一选。（将正确答案的序号填在括号里）（8 分）

1. 小红有 32 颗幸运星，小亮和小红的幸运星的颗数差不多，小亮可能有（ ）颗幸运星。

- A. 15 B. 30 C. 82

2.  中有（ ）个三角形。

- A. 2 B. 6 C. 8

3. 一个数的个位上的数字是5，十位上的数字比个位上的数字大4，这个数是（ ）。

- A. 95 B. 15 C. 59

4. 4 个同样大小的正方形不可能拼成一个（ ）。

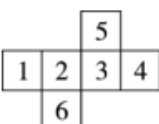

- A. 长方形 B. 三角形 C. 正方形

二、数一数，填一填。（12 分）

1.



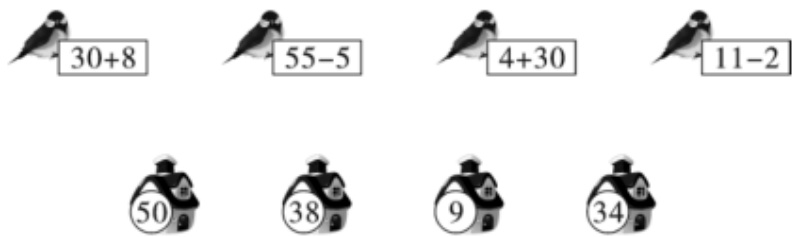
（ ）个三角形，（ ）个正方形，
（ ）个长方形，（ ）个圆，
（ ）个平行四边形。

2. 用  做成一个 ，数字“6”的对面是数字（ ）。

三、读出或写出下面各数。(8分)

| | |
|---------------|---------------|
| 66 读作: _____ | 90 读作: _____ |
| 100 读作: _____ | 8 读作: _____ |
| 五十七 写作: _____ | 六十三 写作: _____ |
| 八十一 写作: _____ | 七十九 写作: _____ |

四、送小鸟回家。(连一连)(8分)



五、按要求做一做。(10分)



1. 按活动项目分一分，涂一涂。(4分)

| | | | |
|--|--|--|--|
| | | | |
| | | | |
| | | | |
| | | | |
| | | | |
| | | | |
| | | | |
| | | | |
| | | | |
| | | | |

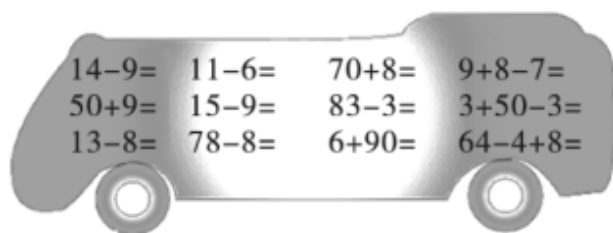
踢足球 踢毽子 跳绳 做操

2. 如果把这些同学分成两组，可以怎样分？填一填。(6分)

| | | |
|--|--|--|
| | | |
| | | |

六、细心加油站。(23 分)

1. 公共汽车开来了！(12 分)



2. 按得数大小把下列算式排一排。(5 分)

$30+7$ $15-9$ $3+10$ $67-7$ $9+40$




() < () < () < () < ()

3. 想一想，填一填。(6 分)

$15 - () = 7$ $16 - () = 7$ $() - 5 = 60$

$() - 5 = 6$ $83 - () = 3$ $70 + () = 78$

七、算一算，填一填。(8 分)

| | | | | |
|-----|---|---|---|---|
| |  |  |  |  |
| 原 有 | 15 瓶 | 14 支 | () 副 | 43 个 |
| 卖 出 | 9 瓶 | () 支 | 7 副 | () 个 |
| 还 剩 | () 瓶 | 8 支 | 20 副 | 3 个 |

八、解决问题。(23 分)

1.



(5 分)

丽丽写了多少个大字？

2. 我有14个孩子。



我们6个围在妈妈身边，
去那边玩的有几个？ (5分)

3.



我吃了3个桃。

还剩20个。



小猴子原来共有多少个桃？ (5分)

4.



48元



30元



8元



5元

根据图中的信息,你能提出什么数学问题? 并解答。(8分)

参考答案

一、1. B 2. C 3. A 4. B

二、1. 20 2 2 7 1 2. 5

三、六十六 九十 一百 八 57 63 81 79

四、自己连一连

五、1. 自己分一分，涂一涂

2. 自己分一分，填一填

六、1. 5 5 78 10 59 6 80 50 5 70 96
68

2. 15-9 3+10 30+7 9+40 67-7

3. 8 9 65 11 80 8

七、6 6 27 40

八、1. $17-8=9$ (个) 2. $14-6=8$ (个)

3. $3+20=23$ (个) 4. 自己提问题，并解答