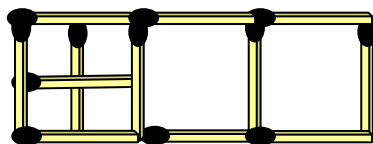
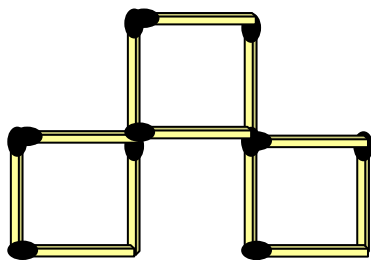
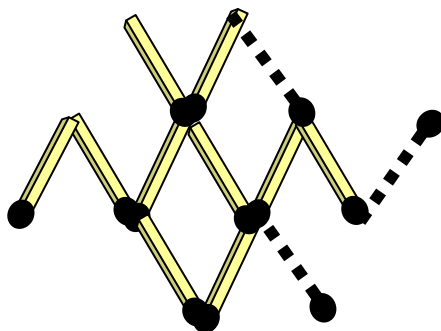
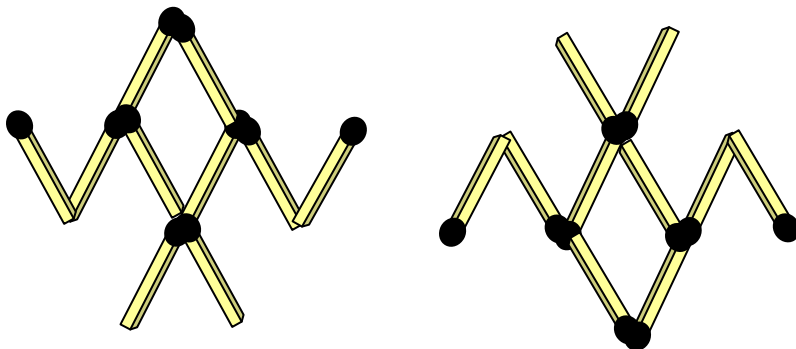



1、下图是由 12 根火柴组成的三个正方形，你能移动 3 根火柴棒使图中出现 7 个正方形吗？



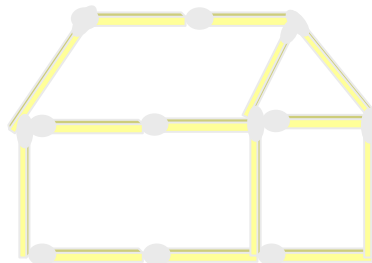
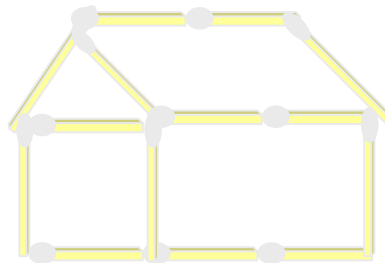
2、用 10 根火柴棍摆成向上飞的蝙蝠图，请你移动 3 根火柴，使它变成向下飞的蝙蝠图形？



3、搭一个三角形要用 3 根火柴，你能用 4 根火柴搭出两个三角形吗？

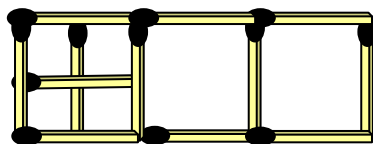
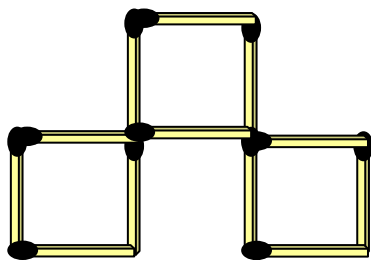


4、下图是用 15 根火柴棍摆成的房子，请你移动 2 根火柴，使房子向右，应该怎样移动？

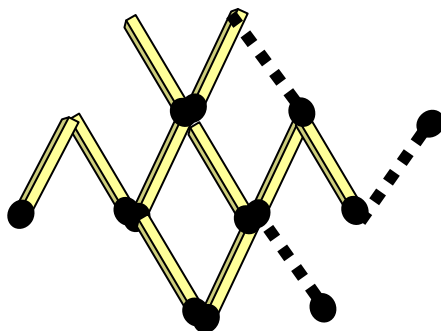
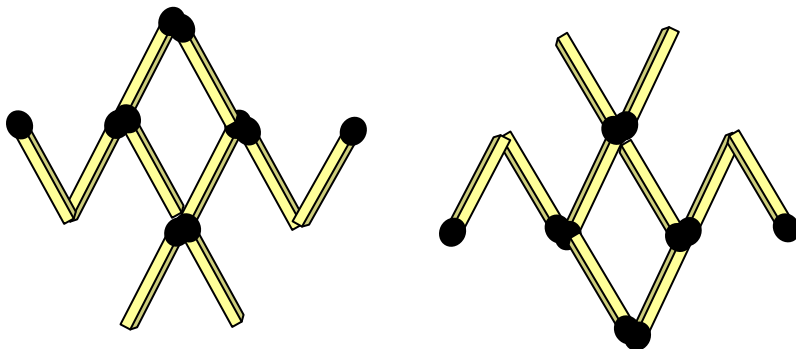


5、下图用 6 根火柴棒摆成的图，请你移动一根，使图变成横着竖着都是三根火柴棒。


1、下图是由 12 根火柴组成的三个正方形，你能移动 3 根火柴棒使图中出现 7 个正方形吗？



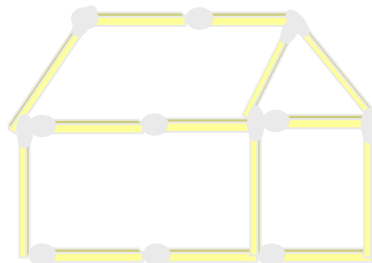
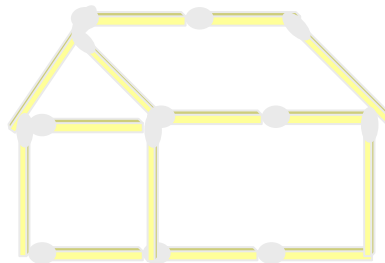
2、用 10 根火柴棍摆成向上飞的蝙蝠图，请你移动 3 根火柴，使它变成向下飞的蝙蝠图形？



3、搭一个三角形要用 3 根火柴，你能用 4 根火柴搭出两个三角形吗？



4、下图是用 15 根火柴棍摆成的房子，请你移动 2 根火柴，使房子向右，应该怎样移动？



5、下图用 6 根火柴棒摆成的图，请你移动一根，使图变成横着竖着都是三根火柴棒。

